

Олимпиадная работа  
школьного этапа всероссийской олимпиады школьников  
по основам безопасности жизнедеятельности  
обучающегося 5 класса  
муниципального бюджетного общеобразовательного учреждения  
средней общеобразовательной школы № 31 со спортивным уклоном  
города Пятигорска Ставропольского края

шифр 05-06

*Литвинов Артём*

Ф.И.О. участника ВсОШ

Педагог-наставник:  
учитель ОБЖ  
муниципального бюджетного  
общеобразовательного учреждения  
средней общеобразовательной школы  
№31 со спортивным уклоном города  
Пятигорска Ставропольского края  
Евстратов Геннадий Иванович

03 октября 2018 года

**ВСЕРОССИЙСКАЯ ОЛИМПИАДА ШКОЛЬНИКОВ ПО ОБЖ**

**ТЕОРЕТИЧЕСКИЙ ТУР**  
**(кабинетный)**

**Первый (школьный) этап Всероссийской олимпиады школьников  
2018-2019 учебного года по ОБЖ  
(5 класс)**

| Ф.И.О. участника | Класс |
|------------------|-------|
| Александров      | 5     |

*Уважаемый участник олимпиады!*

При выполнении заданий теоретического тура Вам предстоит выполнить работу, которую лучше организовать следующим образом:


- не спеша, внимательно прочитайте задание;
- определите, какой из предложенных к заданию вариантов ответа наиболее верный и полный;
- найдите в бланке ответов номер, соответствующий номеру тестового задания, и напишите в ответе букву (буквы) или цифру (цифры), соответствующую выбранному вами варианту;
- продолжайте, таким образом, работу до завершения выполнения заданий всех типов;
- после выполнения всех заданий ещё раз удостоверьтесь в правильности выбранных вами ответов.
- если потребуется корректировка выбранного Вами варианта ответа, то неправильный вариант ответа зачеркните крестиком, а новый выбранный ответ обведите кружком или допишите.

Задание считается выполненным, если Вы вовремя сдаёте его членам жюри.

*Желаем вам успеха!*

### Бланк ответов

**Задание 1.** Наибольшее число наезда автомобиля на пешехода происходит на пешеходном переходе. Определите, кто из пешеходов нарушает правила дорожного движения:



| Вариант № 1 | Вариант № 2 | Вариант № 3 | Вариант № 4 | Ваш ответ.         |
|-------------|-------------|-------------|-------------|--------------------|
| 1           | 3           | 2           | 2           | Вариант № <u>4</u> |
| 2           | 4           | 3           | 6           |                    |
| 3           | 6           | 5           | 7           |                    |

1. Дайте определение следующим перекресткам:

а) регулируемый перекресток – это перекресток где стоит регулировщик.

б) не регулируемый перекресток –

2. Где можно переходить дорогу :

1. По пешеходному переходу.

2. По подземному переходу.

3. Где есть светофор или стоит регулировщик.

Оценочные баллы: максимальный

24

фактический

20

**Задание 2.** В зимнее время опасность может представлять замерзший водоем, т.к. при переходе через него можно провалиться под лед. Прочитайте и ответьте на следующие задания:

**1. При переходе по льду водоема под вами проломился лед. Какими должны быть ваши действия?**

1. *Нужно аккуратно подходить к суше.*
2. ✓
3. ✓
4. ✓
5. ✓

**2. Какие признаки могут свидетельствовать о хрупкости льда на поверхности водоема?**

Ответ: ✓

**3. Вам необходимо перейти по льду на другую сторону реки. Что вам следует учесть при выборе направления перехода реки?**

1. *ч тобы не провалиться надо идти спокойно и на корточках*
2. ✓
- 3.

Оценочные баллы: максимальный

22

фактический

0

#### Задание 4.

Личная безопасность человека является индивидуальной ценностью и определяется конкретными условиями его жизни. Рассмотрите ситуации, связанные с угрозой проведения террористического акта и предложите действия по безопасному поведению при их возникновении.

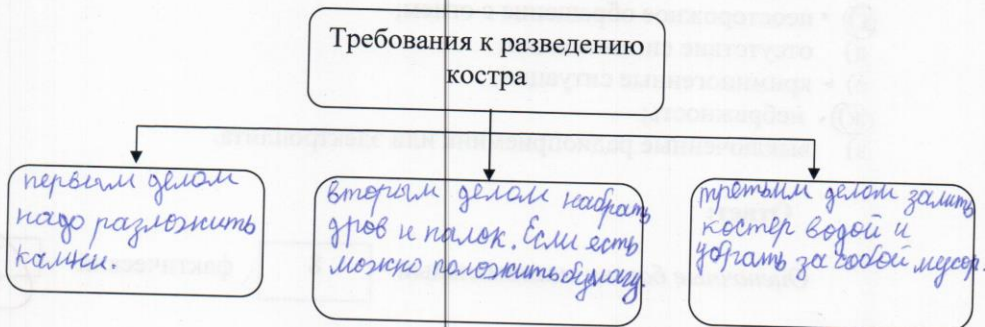
**Вопрос 1. Вы сели в автобус, и увидели под задним сидением, оставленную кем-то сумку, из которой торчат провода и виден кусок изолянты. Ваши действия:**

**Ответ:**

1. Попросить водителя остановить автобус чтобы из него все вышли.
2. Когда все выйдут вызвать полицию.
- 3.
- 4.
- 5.

Одним из видов природных ЧС, представляющих угрозу для человека являются природные пожары.

**Вопрос 2. Заполните схему, представленную ниже:**



Оценочные баллы: максимальный


24

фактический


20

**Задание 3.** Современный дом (квартира), в силу объективных причин не только защищает человека, но и может создать условия для возникновения опасных ситуаций. С учетом этого, Вам предлагается найти правильное решение в предложенных ситуациях и ответить на следующие вопросы:

1. Вы пришли после прогулки домой, разделись и пошли мыть руки. Включив свет в ванной комнате, видите, что из вентиля с горячей водой вытекает вода, её уже достаточно много на полу, и она постепенно прибывает. Определите алгоритм Ваших действий и заполните схему:



2. Вы спускаетесь по лестнице с 3-го этажа, на котором находится ваша квартира. На лестничной площадке, между вторым и первым этажами чувствуете специфический запах и понимаете, что где-то происходит утечка газа. Примите решение, определите алгоритм Ваших действий, и заполните схему:



Оценочные баллы: максимальный

28

фактический

10

## ТЕСТОВЫЕ ЗАДАНИЯ

### Бланк ответов

#### Задание 1.

Какие службы входят в систему обеспечения безопасности города? Выберите правильные ответы.

- а) "Скорая помощь";
- б) служба городского пассажирского транспорта;
- в) пожарная охрана;
- г) служба спасения;
- д) городская справочная служба;
- е) служба связи;
- ж) служба газа;
- з) милиция;
- и) служба погоды.

**Ответ:**

Оценочные баллы: максимальный

5

фактический

5

#### Задание 2.

Из предложенных вариантов выберите основные причины возникновения опасных ситуаций в квартире (доме):

- а) отключение электроэнергии;
- б) неправильное обращение с техникой и бытовыми приборами;
- в) отсутствие аварийного освещения;
- г) неосторожное обращение с огнем;
- д) отсутствие сигнализации;
- е) криминогенные ситуации;
- ж) небрежность;
- з) выключенные радиоприемник или электроплита.

**Ответ:**

Оценочные баллы: максимальный

8

фактический

7

#### Задание 3.

Ваш младший брат взялся рукой за провод включенного магнитофона, и его "ударил" током. Провод остался в его руке.

Выберите из предлагаемых вариантов ваши дальнейшие действия и определите их очередность:

- 3. а) схватить провод и вырвать его из рук брата;
- 4. б) подойти и посмотреть, как он себя чувствует;
- 1. в) отключить электричество в квартире (доме);
- 2. г) выдернуть провод из розетки;

- 6 д) вызвать "Скорую помощь";  
5 е) позвать родителей (соседей).

**Ответ:**

Оценочные баллы: максимальный  фактический

**Задание 4.**

Отравление бытовым газом в квартире (доме) может произойти в результате:

- а) полного сгорания газа;  
б) неполного сгорания газа;  
в) отключения электроэнергии в квартире;  
г) утечки газа.

**Ответ:**

Оценочные баллы: максимальный  фактический

**Задание 5.**

В бытовой газ добавляют специальное вещество для того, чтобы:

- а) увеличить или уменьшить давление газа;  
б) изменить цвет газа, чтобы его было лучше видно;  
в) обнаружить утечку газа по запаху.

**Ответ:)**

Оценочные баллы: максимальный  фактический

**Задание 6.**

Выберите названные ниже основные причины взрывов в жилых зданиях:

- а) неисправность системы водоснабжения;  
б) утечка бытового газа;  
в) неосторожное обращение с огнем;  
г) незаконное хранение и неправильное обращение с взрывными устройствами;  
д) нарушение правил эксплуатации бытовых электроприборов.

**Ответ:**

Оценочные баллы: максимальный  фактический

**Задание 7.**

Вы решили зайти к другу в соседнюю квартиру отдать видеокассету. Только вы отошли от двери, она захлопнулась. Ключи остались дома. Выберите из предлагаемых вариантов ваши дальнейшие действия и определите их очередность:



- 6 д) вызвать "Скорую помощь";  
5 е) позвать родителей (соседей).

**Ответ:**

Оценочные баллы: максимальный  фактический

**Задание 4.**

Отравление бытовым газом в квартире (доме) может произойти в результате:

- а) полного сгорания газа;  
б) неполного сгорания газа;  
в) отключения электроэнергии в квартире;  
г) утечки газа.

**Ответ:**

Оценочные баллы: максимальный  фактический

**Задание 5.**

В бытовой газ добавляют специальное вещество для того, чтобы:

- а) увеличить или уменьшить давление газа;  
б) изменить цвет газа, чтобы его было лучше видно;  
в) обнаружить утечку газа по запаху.

**Ответ:)**

Оценочные баллы: максимальный  фактический

**Задание 6.**

Выберите названные ниже основные причины взрывов в жилых зданиях:

- а) неисправность системы водоснабжения;  
б) утечка бытового газа;  
в) неосторожное обращение с огнем;  
г) незаконное хранение и неправильное обращение с взрывными устройствами;  
д) нарушение правил эксплуатации бытовых электроприборов.

**Ответ:**

Оценочные баллы: максимальный  фактический

**Задание 7.**

Вы решили зайти к другу в соседнюю квартиру отдать видеокассету. Только вы отошли от двери, она захлопнулась. Ключи остались дома. Выберите из предлагаемых вариантов ваши дальнейшие действия и определите их очередность:

- а) будете ждать родителей на лестничной клетке;
- б)  зайдете к другу и позвоните родителям;
- в)  попросите рабочих с соседней стройки открыть замок;
- г)  подождете родителей у друга.

**Ответ:**

Оценочные баллы: максимальный

4

фактический

### Задание 8.

Определите из приведенных ниже основные причины пожаров в жилых зданиях:

- а)  нарушение правил безопасности при пользовании электробытовыми и электронагревательными приборами;
- б) отсутствие первичных средств пожаротушения;
- в)  неосторожное обращение с огнем;
- г) неисправность внутренних пожарных кранов;
- д)  нарушение правил хранения и использования горючих и легковоспламеняющихся жидкостей;
- е) беспечность и небрежность при обращении с огнем;
- ж) неисправность телефонной связи;
- з)  утечка газа;
- и)  неосторожное обращение с пиротехническими изделиями;
- к) неисправность системы водоснабжения.

**Ответ:**

Оценочные баллы: максимальный

6

фактический

### Задание 9.

Что запрещается делать при пожаре в квартире? Выберите правильные ответы:

- а)  выходить через задымленную лестничную площадку и пользоваться лифтом;
- б) при выходе по незадымленной лестнице держаться за стены и поручни;
- в)  выпрыгивать из окна, спускаться по водосточным трубам и стокам при помощи простыней и веревок;
- г) при увеличении концентрации дыма передвигаться пригнувшись или ползком;
- д)  открывать двери и окна и тушить огонь до вызова пожарной охраны;
- е)  сообщать о пожаре в пожарную охрану пока об этом не сообщено родителям на работу;
- ж)  гасить водой включенные в сеть электроприборы;
- з) при эвакуации из задымленного помещения пользоваться переносным карманным фонариком.

**Ответ:**

Оценочные баллы: максимальный

8

фактический

6

**Задание 10.**

Придя вечером из школы, вы обнаружили, что из-под двери вашей квартиры идет дым. Выберите из предлагаемых вариантов ваши дальнейшие действия и определите их очередность:

- а) войти в квартиру и узнать причину задымления;
- б) взять у соседей ведро и потушить огонь;
- в) пойти к соседям и позвонить 01;
- г) позвонить родителям.

**Ответ:**

Оценочные баллы: максимальный

4

фактический

2

**Задание 11.**

Из предложенных вариантов выберите основные причины транспортных аварий:

- а) отсутствие разметки на дороге;
- б) плохие погодные условия;
- в) невнимательность участников дорожного движения;
- г) отсутствие светофоров на перекрестках;
- д) отсутствие на главных улицах и дорогах подземных переходов;
- е) невыполнение правил безопасности водителями транспортных средств;
- ж) отсутствие регулировщика на нерегулируемом перекрестке;
- з) неправильное поведение пассажиров.

**Ответ:**

Оценочные баллы: максимальный

8

фактический

6

**Задание 12.**

Для выхода из автобуса в случае аварии можно использовать:

- а) вентиляционные люки;
- б) кабину водителя;
- в) двери и окна.

**Ответ:**

Оценочные баллы: максимальный

4

фактический

2

**Задание 13.**

В ненастную, сырую погоду вы едете в троллейбусе. Неожиданно подул

сильный ветер и произошел обрыв контактного провода, который упал на крышу троллейбуса. Водитель открыл двери для выхода пассажиров. Как вы будете покидать троллейбус? Укажите правильный ответ:

- а) через окно;
- б) будете выходить через двери по ступенькам;
- в) будете покидать троллейбус через дверь только прыжком, чтобы не перазило током.

**Ответ:**

Оценочные баллы: максимальный  фактический

**Задание 14.**

Опасными зонами на железнодорожном транспорте являются:

- а) железнодорожные пути;
- б) железнодорожный вокзал;
- в) привокзальная площадь;
- г) залы ожидания;
- д) железнодорожные переезды;
- е) посадочные платформы.

**Ответ:**

Оценочные баллы: максимальный  фактический

**Задание 15.**

Вы находитесь дома один. Вдруг раздается звонок в дверь.

Вы подходите к двери и видите в глазок незнакомого человека. Он пытается уговорить вас открыть дверь. Выберите из предлагаемых вариантов ваши дальнейшие действия и определите их очередность:

- а) позвонить родителям или в милицию;
- б) открыть дверь и узнать, что ему нужно;
- в) попробовать громко разговаривать с родителями (обмануть);
- г) сказать, что дома никого нет, а открывать дверь запретили;
- д) не вступать в разговор;
- е) сказать, что вы вызвали милицию.

**Ответ:**

Оценочные баллы: максимальный  фактический

**Задание 16.**

Вы заходите в свой подъезд и слышите громкие крики, смех, шум и понимаете, что этажом выше на лестничной клетке находится пьяная компания. Выберите из предлагаемых вариантов действий правильный:

- а) спокойно подниматься домой;

- б) ждать, пока они уйдут;  
в) дождаться взрослого знакомого человека, входящего в подъезд, и попросить проводить вас до квартиры.

**Ответ:**

Оценочные баллы: максимальный

2

фактический

2

**Задание 17.**

Вы гуляете зимой в парке. Вдруг на вас выбегает с лаем большая собака. У вас в руках клюшка, сумка с коньками. Выберите из предлагаемых вариантов дальнейшие действия и определите их очередность:

- а) замахнуться клюшкой и отогнать собаку;  
б) убежать от нее;  
в) закричать, отгоняя ее клюшкой, бросить в нее сумкой;  
г) упасть на землю;  
д) остановиться, повернувшись к собаке лицом вполоборота;  
е) подразнить собаку;  
ж) громко позвать хозяина;  
з) при подготовке собаки к прыжку упереться, закрыв горло и лицо согнутой в локте рукой;  
и) сохранять спокойствие;  
к) при покусах промыть рану, обратиться в травмпункт по месту жительства.

**Ответ:**

Оценочные баллы: максимальный

5

фактический

3

**Задание 18.**

Вам позвонили в дверь и сказали: "Телеграмма, нужно расписаться". Ваши действия:

- а) надев дверную цепочку, откроете дверь;  
б) попросите прочесть телеграмму через дверь, в противном случае отнести ее на почту;  
в) предложите оставить телеграмму в двери - вы потом ее заберете.

**Ответ:**

Оценочные баллы: максимальный

2

фактический

2

**Задание 19.**

Сирены и прерывистые гудки предприятий и транспортных средств означают сигнал оповещения:

- а) «Внимание всем!»;

- б) «Внимание! Опасность!»;  
в) «Тревога».

**Ответ:**

Оценочные баллы: максимальный

2

фактический

0

**Задание 20.**

Находясь дома одни, вы вдруг слышите прерывистые гудки предприятий и машин. Ваши действия:

- а) это сигнал "Внимание всем!". Услышав его, вы немедленно включите телевизор, радиоприемник и будете слушать сообщение;  
б) немедленно покинете помещение и спуститесь в убежище;  
в) это сигнал "Радиоактивная опасность". Вы плотно закроете все форточки и двери.

**Ответ:**

Оценочные баллы: максимальный

2

фактический

2

**Задание 21.**

Перечислите, что обязательно необходимо сделать в квартире перед убытием на сборный эвакуационный пункт:

- а) закрыть окна и форточки;  
б) забить окна и форточки досками;  
в) вывернуть все электролампочки;  
г) отключить все осветительные и электронагревательные приборы;  
д) все вещи с балкона (лоджии) и коридоров внести в комнату;  
е) закрыть краны водопроводной и газовой сетей;  
ж) произвести влажную уборку помещений;  
з) закрыть квартиру на замок.

**Ответ:**

Оценочные баллы: максимальный

8

фактический

2

**Задание 22.**

Вы случайно разбили дома ртутный термометр. Капельки ртути раскатились по полу. Выберите из предлагаемых вариантов ваши дальнейшие действия и определите их очередность:

- а) поиграть шариками ртути;  
б) постараться их собрать веником в совок;  
в) выбросить собранную ртуть в помойное ведро;  
г) ничего не сказать родителям, чтобы не ругали;  
д) сообщить родителям о случившемся;

е) поместить собранную ртуть в банку с водой.

**Ответ:**

Оценочные баллы: максимальный

6

фактический

2

**Задание 23.**

У междугороднего автобуса, на котором вы ехали, на склоне горы отказали тормоза, и он, набирая скорость, скатывается вниз. Как вы будете действовать в данной ситуации? Укажите правильный ответ:

- а) постараетесь покинуть автобус, выбив окно или открыв дверь;
- б) поспешите на помощь водителю;
- в) останетесь в своем кресле, положив перед собой мягкие вещи, упретесь ногами и руками в спинку впереди стоящего кресла;
- г) встанете в проход и крепко ухватитесь за поручни;
- д) ляжете на пол в проходе автобуса.

**Ответ:**

Оценочные баллы: максимальный

2

фактический

2

| <b>Баллы</b>                            |   |
|---|---|
| Максимально возможное количество баллов | Фактическое количество баллов, набранное участником |
| 200                                     |   |

Подписи членов комиссии:

\_\_\_\_\_  
\_\_\_\_\_  
\_\_\_\_\_