

FX

ВСЕРОССИЙСКАЯ ОЛИМПИАДА ШКОЛЬНИКОВ ПО ОБЖ

ТЕОРЕТИЧЕСКИЙ ТУР
(кабинетный)

**Первый (школьный) этап Всероссийской олимпиады школьников
2019-2020 учебного года по ОБЖ
(7 – 8 класс)**

Ф.И.О. участника	Класс
<i>Ковалев Варвара Кирилловна</i>	<i>7 "Б"</i>

Уважаемый участник олимпиады!

При выполнении заданий теоретического тура Вам предстоит выполнить работу, которую лучше организовать следующим образом:


- не спеша, внимательно прочитайте задание;
- определите, какой из предложенных к заданию вариантов ответа наиболее верный и полный;
- найдите в бланке ответов номер, соответствующий номеру тестового задания, и напишите в ответе букву (буквы) или цифру (цифры), соответствующую выбранному вами варианту;
- продолжайте, таким образом, работу до завершения выполнения заданий всех типов;
- после выполнения всех заданий ещё раз удостоверьтесь в правильности выбранных вами ответов.
- если потребуется корректировка выбранного Вами варианта ответа, то неправильный вариант ответа зачеркните крестиком, а новый выбранный ответ обведите кружком или допишите.

Задание считается выполненным, если Вы вовремя сдаете его членам жюри.


..... *Желаем вам успеха!*

Задание 1. Обеспечение безопасности дорожного движения


Вопрос 1. Опишите действия пешеходов по сигналу регулировщика.



Сигнал 1



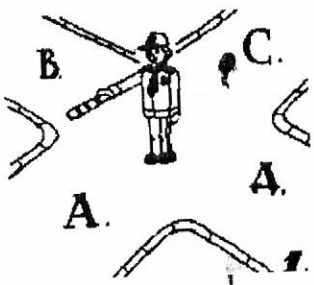
Сигнал 2



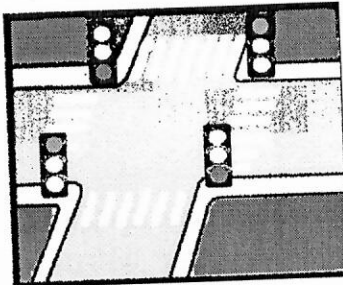
Сигнал 3

<i>стоит</i>	<i>идти всем</i>	<i>идти только справа</i>
--------------	------------------	---------------------------

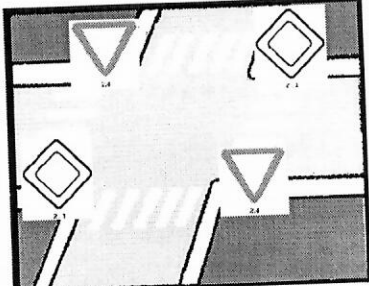
Вопрос 2. На каком из рисунков нерегулируемый перекресток?



А



Б



В

2
 Ответ- В

Вопрос 3. Что означает термин «Дорога»?

Регулируемая или не регулируемая часть земли по которой едет транспорт

Оценочные баллы: максимальный 7 фактический 4

За каждый правильный ответ в 1 вопросе по 1 баллу - итого 3 баллов
 За правильный ответ во 2 вопросе 2 балла
 За правильный ответ в 3 вопросе 2 балла

ЗАДАНИЕ 2. Основы противодействия терроризму и экстремизму в Российской Федерации

Личная безопасность человека является индивидуальной ценностью и определяется конкретными условиями его жизни. Рассмотрите ситуации, связанные с угрозой проведения террористического акта и предложите действия по безопасному поведению при их возникновении.

Вопрос 1. Характерными признаками террористов-смертников являются:

○

Вопрос 2. Какими должны быть ваши действия, если транспортное средство в котором Вы находитесь, захватили террористы? Перечислите их.

○

палкаться руки за голову
встать все приказы террористов
не приближаться к себе выходящие
по возможности вздрать наличие

Оценочные баллы: максимальный

8

 фактический

3

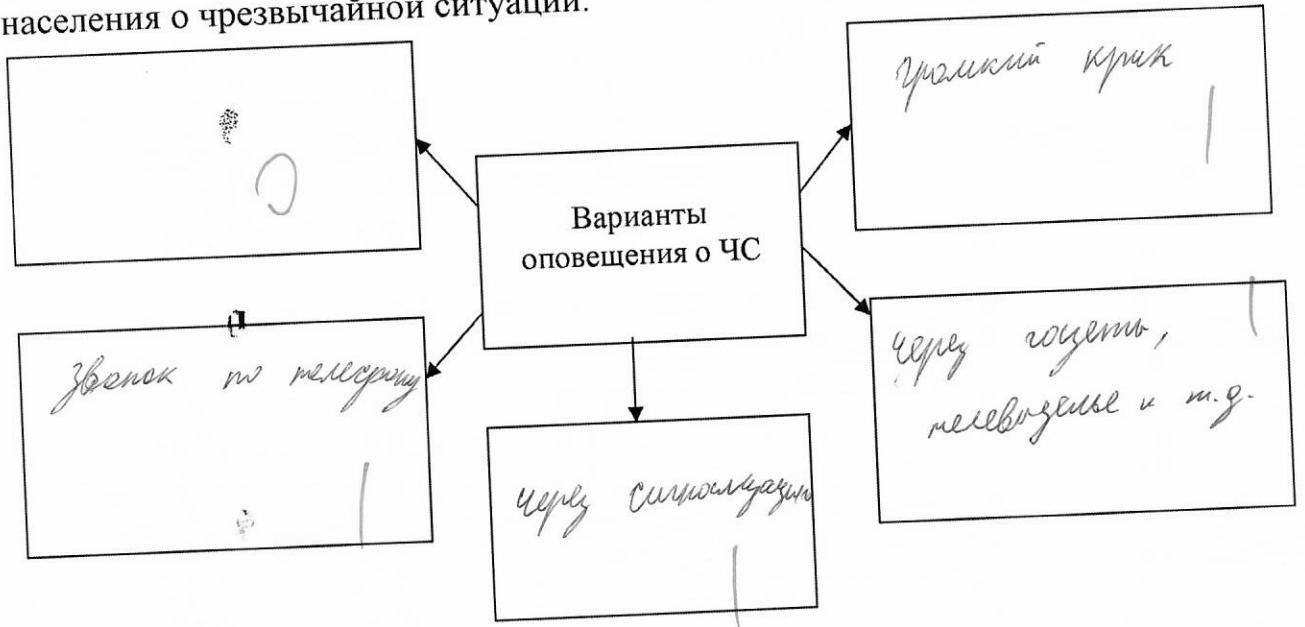
За каждый правильный ответ в 1 вопросе по 1 баллу - итого 4 балла
За каждый правильный ответ во 2 вопросе по 1 баллу - итого 4 балла

ЗАДАНИЕ 3.

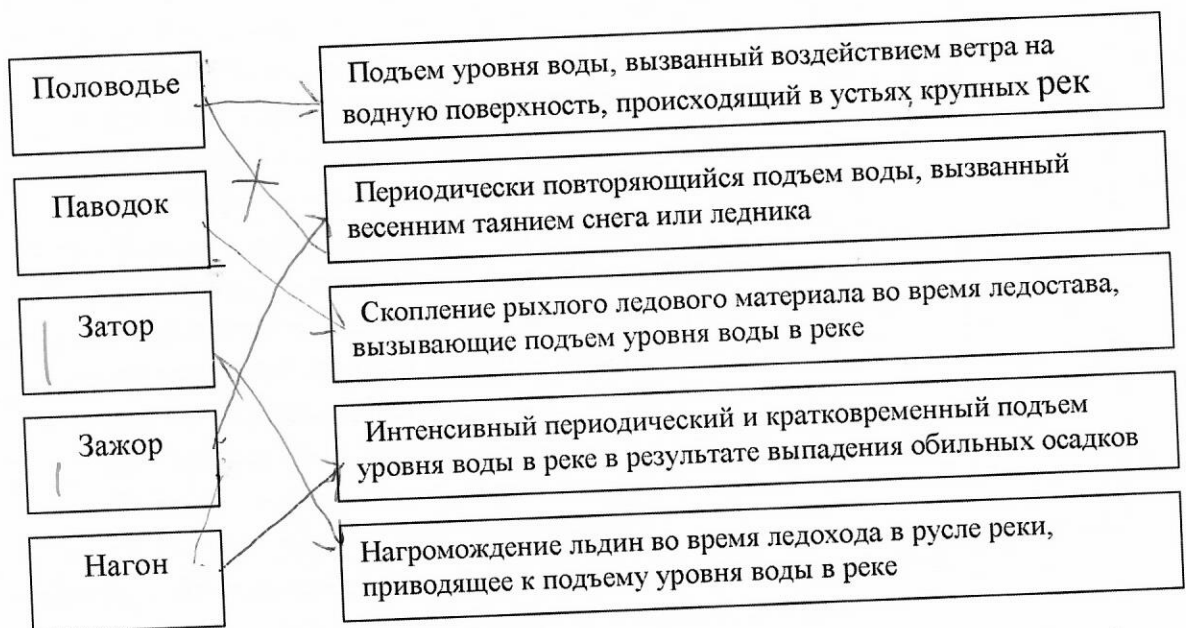
Печальные уроки чрезвычайных происшествий, происходящих постоянно в мире и России, требуют от граждан определенных знаний.

Подумайте и ответьте на предложенные ниже задания.

Вопрос 1. На схеме нарисуйте варианты способов оповещения населения о чрезвычайной ситуации.



Вопрос 2. Соедините стрелками соответствующие терминам определения, характеризующие основные причины возникновения наводнений



Оценочные баллы: максимальный

10

фактический

6

За каждый правильный ответ по каждой из пяти позиций указанных в

Тестовые задания 7 – 8 класс

№ п/п	Содержание вопроса	Кол-во баллов	Вариант ответа
1	<p>Где можно кататься на роликах?</p> <p>а) На любой ровной поверхности, но обязательно далеко от транспортных средств и скопления пешеходов</p> <p>б) По краю дороги.</p> <p>в) По тротуару.</p>	1	а
2.	<p>Какой дорожный знак устанавливают непосредственно у пешеходного перехода:</p> <p>а) предупреждающий знак «Пешеходный, переход»;</p> <p>б) информационно-указательный знак «Пешеходный переход».</p>	1	б
3	<p>Производственные аварии и катастрофы относятся к:</p> <p>а) ЧС экологического характера;</p> <p>б) ЧС природного характера;</p> <p>в) ЧС техногенного характера;</p> <p>г) стихийным бедствиям.</p>	1	б
4	<p>Среди перечисленных поражающих факторов выберите те, которые характерны для химических аварий с выбросом АХОВ:</p> <p>а) интенсивное излучение гамма-лучей, поражающее людей;</p> <p>б) поражение людей опасными веществами через кожные покровы;</p> <p>в) лучистый поток энергии;</p> <p>г) проникновение опасных веществ через органы дыхания в организм человека;</p> <p>д) выделение из облака зараженного воздуха раскаленных частиц, вызывающих ожоги.</p>	1 2	а 2 б
5	<p>При аварии на химически опасном объекте произошла утечка хлора. Вы живете на 1-м этаже девятиэтажного дома и можете оказаться в зоне заражения. Ваши действия:</p> <p>а) укроетесь в подвале здания;</p> <p>б) подниметесь на верхний этаж;</p> <p>в) останетесь в своей квартире.</p>	1	а
6	<p>Какое заболевание вызывает проникающая радиация у незащищенных людей? Назовите правильный ответ:</p> <p>а) поражение центральной нервной системы;</p> <p>б) поражение опорно-двигательного аппарата;</p> <p>в) лучевую болезнь.</p>	1	б
7	<p>Отрыв и катастрофическое падение больших масс</p>	1	

	<p>скатывание на крутых и обрывистых склонах.</p> <p>а) обвалом; 2 б) селем; 2 в) оползнем; г) лавиной</p>		<p>✓ ✗</p>
8	<p>Скользящее смещение земляных масс под действием собственного веса :</p> <p>а) камнепад; б) оползень; в) обвал.</p>	1	в
9	<p>Известно, что сила ветра измеряется его скоростью. Назовите, кто из ученых создал шкалу силы ветра?</p> <p>а) Рихтер; б) Ломоносов; в) Бофорт; г) Менделеев.</p>	1	✓
10	<p>Гидродинамические аварии это:</p> <p>а) аварии на химически опасных объектах, в результате которых может произойти заражение воды; б) аварии на пожаро- взрывоопасных объектах, в результате которых может произойти взрыв; в) аварии на гидродинамически опасных объектах, в результате которых могут произойти катастрофические затопления.</p>	1	в
11	<p>Переломы возникают при резких движениях, ударах, падениях с высоты. Они могут быть:</p> <p>а) закрытыми; б) внутренними; в) открытыми; г) наружными</p>	2	а в
12	<p>Укажите, какие из нижеперечисленных веществ относятся к дезинфицирующим веществам:</p> <p>а) синтомициновая эмульсия; б) перекись водорода; в) настойка йода; г) мазь на основе змеиного яда; д) борная кислота; е) бриллиантовая зелень.</p>	2 3	✓ в г
13	<p>Горный поток, состоящий из смеси воды и рыхлообломочной горной породы называется:</p> <p>а) обвалом; б) селем; в) оползнем; г) лавиной.</p>	1	в
	<p>Из перечисленных поражающих факторов выберите</p>	13	

	<p>а) поражающее действие различных предметов, бвовлекаемых в движение;</p> <p>б) понижeнная концентрация кислорода в воздухе;</p> <p>в) повышенная температура окружающей среды;</p> <p>г) непосредственное динамическое воздействие на тело человека;</p> <p>д) травмирующее действие обломков сооружений;</p> <p>е) ударная волна.</p>		<p>а</p> <p>б</p> <p>г</p> <p>е</p>
15	<p>Из приведенных ниже действий выберите те, которые запрещается делать при оказании первой медицинской помощи при переломах:</p> <p>а) проводить иммобилизацию поврежденных конечностей;</p> <p>б) вставлять на место обломки костей и вправлять на место вышедшую кость;</p> <p>в) устранять искривление конечности;</p> <p>г) останавливать кровотечение</p>	2	<p>✓</p> <p>б</p>
16	<p>Из приведенных симптомов выберите те, которые характерны для теплового удара:</p> <p>а) слабость и сонливость;</p> <p>б) сухая горячая кожа;</p> <p>в) возбуждение;</p> <p>г) сильный, учащенный пульс и учащенное дыхание.</p>	2 3	<p>✓</p> <p>2</p>
		25 14	

Баллы	
Максимально возможное количество баллов	Фактическое количество баллов, набранное участником
50	27

Подписи членов комиссии:
