

Всероссийская олимпиада школьников по географии
Школьный этап
2020/2021 учебного года
г. Пятигорск

Задания тестового и теоретического (письменного) тура

ученика 10А класса МБОУ СОШ №31 со спортивным уклоном

Давитян Давид Рудольфович

(ФИО обучающегося)

шифр

10-01

ВНИМАНИЕ!

- Олимпиада состоит из двух туров: тестового и теоретического.
- На выполнение всех заданий отводится 2,15 часа (135 минут).
- На выполнение заданий тестового тура отводится 45 минут.
- На выполнение заданий теоретического тура отводится 1,5 часа (90 минут).
- Запрещается использование справочной литературы, атласа, любых электронных устройств

Педагог-наставник:
учитель географии
муниципального бюджетного
общеобразовательного учреждения
средней общеобразовательной школы
№31 со спортивным уклоном города
Пятигорска Ставропольского края
Назарец Марина Владимировна

28 сентября 2020 года

Школьный этап всероссийской олимпиады школьников по географии
2020 – 2021 учебный год
10-11 КЛАСС
Тестовый тур

1. В организацию ОПЕК не входит:

- 1) Алжир; 2) Мексика; 3) Нигерия; г) Венесуэла.

2. Выберите государство, неотъемлемой частью которого является архипелаг Шпицберген:

- 1) Германия; 2) Норвегия; 3) Исландия; 4) Финляндия.

3. Что характерно для умеренного муссонного типа климата?

- 1) тёплая влажная зима и сухое лето;
2) тёплая зима и тёплое лето, осадки выпадают равномерно в течение года;
3) холодная малоснежная зима и тёплое дождливое лето;
4) холодная зима и холодное лето, осадки выпадают равномерно в течение года.

4. Выберите вариант, в котором присутствуют только страны-абсолютные монархии:

- 1) Великобритания, Дания, Испания;
2) ОАЭ, Катар, Оман;
3) Германия, Австрия, Индия;
4) США, Франция, Россия.

5. Выберите вариант, в котором присутствуют только страны монархии-княжества:

- 1) Япония, Люксембург, Ватикан;
2) Норвегия, Швеция, Дания;
3) Андорра, Монако, Лихтенштейн;
4) Марокко, Иордания, Саудовская Аравия.

6. Укажите регион-лидер по разведанным запасам нефти в мире:

- 1) Зарубежная Азия; 2) Латинская Америка; 3) Африка; 4) Страны СНГ.

7. Укажите страну, относящуюся к лидерам по запасам медных руд:

- 1) Саудовская Аравия; 2) Чили; 3) Россия; 4) Гвинея.

8. Выберите государство, относящееся к лидерам по площади малопригодных земель:

- 1) Канада; 2) Россия; 3) Норвегия; 4) Алжир.

9. Вспомните экономический район, в котором больше всего республик в составе РФ, и найдите единственную страну, с которой он граничит:

- 1) Китай; 2) Монголия; 3) Казахстан; 4) Грузия; 5) Армения; 6) Финляндия.

10. Выберите вариант, в котором представлены государства-лидеры по гидроэнергетическим ресурсам:

- 1) Йемен, Иордания, Саудовская Аравия, Ливия;
2) Россия, США, Китай, Бразилия;
3) Швеция, Япония, Канада;
4) Португалия, Германия, Франция, Польша.

11. Какой ученый считается «отцом» теории дрейфа континентов:

- 1) Ньютон; 2) Вегенер; 3) Эйнштейн; 4) Агассиз

12. В возрастной структуре населения, какой из перечисленных стран доля детей наибольшая?

- 1) Турция; 2) Польша; 3) Швеция; 4) Австралия.

13. Братья Бернардаци, Уpton С.И., Семенов Н.Н. – что объединяет эти имена?

- 1) это знаменитые на КМВ строители и архитекторы. 2) это известные на КМВ врачи. 3) это выдающиеся писатели Юга России.

14. В каком городе России выпускают троллейбусы:

- 1) Липецк; 2) Москва; 3) Энгельс; 4) Нижний Новгород.







15. Ближе всего к высочайшей вершине, какого материка 23 сентября в полдень по Гринвичу Солнце находится в зените:

- 1) Евразия; 2) Африка; 3) Южная Америка; 4) Австралия

Теоретический тур

Задание 1. А) Установите соответствие: город Ставропольского края – его герб.

Б) Распределите города в порядке уменьшения их численности.

1. Пятигорск В +	4. Георгиевск Б +	 А	 Г
2. Кисловодск Г +	5. Будёновск Е +	 Б	 Д
3. Ессентуки А +	6. Лермонтов Д +	 В	 Е

Пятигорск
 ↓
 Кисловодск
 ↓
 Ессентуки
 ↓
 Георгиевск
 ↓
 Будёновск
 ↓
 Лермонтов

Б

Задание 2. Определите, каким странам соответствуют приведенные в таблице характеристики структуры занятости экономически активного населения (I – сельское хозяйство, лесное хозяйство и рыболовство; II – промышленность и строительство; III – сфера услуг). Бельгия, Болгария, Бурунди, Панама, Тунис.

5 2 1 3 4
 - + + - -


2

Страна	Доля занятых, %		
	1	11	111
1.	92	3	5
2.	28	33	39
3.	13	48	49
4.	3	28	69
5.	1	14	75

Задание 3. Ниже представлены шесть известных достопримечательностей стран мира.

1) Определите эти достопримечательности, внесите номер фотографии в таблицу ниже, заполните графу «Местоположение», указав страну, материк, где находится объект.

2) Для каждой страны назовите ещё три достопримечательности, входящие в объекты Всемирного наследия ЮНЕСКО.



№ фото	Достопримечательности	Местоположение
6 ✓	Оперный театр, Машинный завод, Боулинг, Барберский парикмахерская, Хау, Шарк-Бей	Страна: Австралия (Австралийский Союз) ✓ Материк: Австралия ✓
1 ✓	Пирамиды Александрийская Библиотека, Великая пирамида, Гиза, Великая пирамида, Великая пирамида	Страна: Египет ✓ Материк: Африка ✓
3 ✓	Запретный город, Терракотовая армия, Монастырь, Монастырь, Монастырь	Страна: Китай ✓ Материк: Евразия ✓
2 ✓	Статуя Свободы, Мост Сан-Франциско, Парк Весс (Калифорния), Нью-Йорк, Чикаго (гора президентов)	Страна: Соединенные Штаты Америки ✓ Материк: Северная Америка ✓

5 ✓	Статуя Христа Искупителя Амазонка, Опу, Грениу, Црк. Кайтхубон, Месс-ду-Грениу	Страна: Материк: Южная Америка ✓ Бразилия
1 ✓	Заповедник Валленс, Лувр, Версальский дворец	Страна: Материк: Европа ✓ Франция

Задание 4. Определите субъект федерации X, основываясь на информации о некоторых соседях.

О первом Эмвекман	Близ границы с X, берет начало правый приток самой большой из рек, впадающей в самый большой внутренний водоем страны.
О втором Варенск	Главный город стоит на самом большом левом притоке реки самой обширной из стран, полностью лежащих в Европе
О третьем Валенск	Лидирует в России по добыче железной руды
О четвертом Варенск	Здесь находится самая северная АЭС в водосборном бассейне самого маленького моря России
О пятом Мурманск	Здесь находится самый северный металлургический комбинат в водосборном бассейне Дона

Эмвекман - Мурманск

Задание 5. На рисунке схематически изображены основные части четырех из двадцати крупнейших по водности речных систем мира (они обозначены буквами А—Г), относящихся к трем материкам. Звездочкой обозначен крупнейший город на главной реке. Масштаб изображений различается.

Сопоставьте рисунки с данными таблицы и заполните ее пустующие ячейки.

Впишите в соответствующие ячейки названия главных рек каждой из речных систем (в некоторых случаях это не одна, а две главных реки), а также названия двух важнейших показателей, которые характеризуют речные системы. Укажите единицы измерения этих показателей.

Впишите в таблицу названия обозначенных звездочками городов.

Рисунок	Название реки / рек	Показатель X, ед.измерения	Показатель Y, ед.измерения	Город
А	Амазонка	Более 200 000	Более 7 000 000	Манакос
Б	Енисей	20 000	2 600 000	Красноярск
В	Волга-Камский бассейн	17 000	3 200 000	Мемфис
Г	Обь	13 000	Новосибирск →	

Примечание: в таблице приведены округленные значения показателей.

8

