

1 октября 2020 года

Летягог-наставник:
Учитель истории
Муниципального бюджетного
образовательного учреждения
средней общеобразовательной школы
№31 со спортивным уклоном города
Ляггорска Ставропольского края
Бочарова Мария Викторовна

Ф.И.О. участника

Кормаров Никита Максимович

07-05

шифр

Олимпиадная работа
школьного этапа всероссийской олимпиады школьников
по истории
обучающегося _____ класса
Муниципального бюджетного образовательного учреждения
средней общеобразовательной школы №31 со спортивным уклоном
города Ляггорска Ставропольского края

Блок 1. (максимум 10 баллов)
1. Задания с 1 вариантом ответа (за каждое задание по 1 б.)

А) Какое из перечисленных событий относится к XI веку?

- 1) признание варягов
- 2) создание Русской правды
- 3) восстание древлян
- 4) создание летописи «Повесть временных лет»

Б) В период феодальной раздробленности боярскими республиками, в которых высшим органом власти являлось вече, были

- 1) Чернигов и Рязань
- 2) Киев и Вышгород
- 3) Москва и Владимир
- 4) Новгород и Псков

В) Сражения русских дружин с отрядами шведских и немецких рыцарей произошли в

- 1) 1201 и 1219 годах
- 2) 1240 и 1242 годах
- 3) 1223 и 1237 годах
- 4) 1378 и 1380 годах

Г) Величайший русский иконописец... Его творения полны удивительной нравственной чистоты, доброты, умиротворения. Его творчество стало образцом для многих поколений русских художников. Это был

- 1) Андрей Рублев
- 2) Аристотель Флоравантийский
- 3) Пётро Солари
- 4) Алевиз Новый

Д) Прочтите отрывок из «Жития Сергия Радонежского» и укажите, о каком сражении идет речь.

«Началось сражение, и многие пали, но помог Бог великому победоносному Дмитрию, и побеждены были... татары, и полному разгрому подверглись... Великий князь Дмитрий, славную победу одержав, пришел к Сергию, благодарность принес за добрый совет, Бога славил и вклад большой в монастырь дал».

- 1) о сражении на реке Воже
- 2) о Куликовской битве
- 3) о битве на реке Калке
- 4) о Стоянии на реке Угре

Е) Кому принадлежат слова?

«Англичане будут изгнаны из Франции, кроме тех, кто найдет здесь пибель... Бог пошлет французам победу над англичанами!»

- 1) Жанне д'Арк
- 2) Черному принцу
- 3) Герцогу Бургундскому
- 4) Вильгельму Завоевателю

Ж) Основателем ислама считается:

- 1) халиф Харун ар-Рашид
- 2) пророк Мухаммад
- 3) пророк Моисей
- 4) Адам

З) Какой исторической личности принадлежит фраза?

«О, доблестные воины, потомки непобедимых предков! – вскричал он. – Забудьте все наши ссоры и обиды! Отправьтесь в путь ко Святому Лобу Лосподню, вырвите священную землю из лап гнусных завоевателей».

И) Запишите термин, о котором идет речь.

Наследственное земельное владение, выдававшееся за военную службу.

К) Запишите термин, о котором идет речь.

Живописное изображение, составленное из кусочков непрозрачного стекла или цветных камней.

Ответ: маршировка

2. Задания с несколькими вариантами ответов (2 балла за полностью верный ответ, 1 балл за ответ с одной ошибкой)

Блок 2 (максимум 10 баллов)

- А) Какие из представленных ниже государств располагались в долине рек Тигр и Евфрат?
- | | | | |
|--------------|---|---|---|
| 1) Шумер | 1 | 3 | 5 |
| 2) Македония | | | |
| 3) Лакия | | | |
- 4) Вавилония
5) Урарту
6) Ассирия

- Б) Какие исторические личности были связаны с эпохой Великих географических открытий?

- | | | | |
|---------------------|---|---|---|
| 1) Ланте Алигьери | 3 | 6 | 2 |
| 2) Васко да Гама | | | |
| 3) Христофор Колумб | | | |
- 4) Хлодвиг
5) Гутенберг
6) Фернан Магеллан

- В) Какие географические пункты из перечисленных, составляли торговый путь «из варяг в греки»?

- | | | | |
|------------------|---|---|---|
| 1) река Днепр | 5 | 1 | 3 |
| 2) река Дунай | | | |
| 3) озеро Селигер | | | |
- 4) озеро Ильмень
5) река Волга
6) река Ловат

- Г) Укажите представителей духовно-рыцарских орденов, созданных во время Крестовых походов.

- | | | | |
|---------------|---|---|---|
| 1) альбигойцы | 3 | 1 | 6 |
| 2) сельджуки | | | |
| 3) тамплиеры | | | |
- 4) госпитальеры
5) герольды
6) тевтоны

- Д) Какие из перечисленных событий относятся к периоду правления Ивана III?

- | | | | |
|---------------------------|---|---|---|
| 1) Стояние на Угре | 1 | 5 | 2 |
| 2) введение патриаршества | | | |
| 3) принятие Судебника | | | |
- 4) Куликовская битва
5) присоединение Твери
6) создание «Ловести временных лет»

Блок 3 (максимум - 10 баллов)

3. Что с исторической точки зрения объединяет перечисленные в ряду элементы? Дайте максимально точный ответ. (2 балла за полностью верный ответ)

- А) Порох, компас, фарфор, шелк

- Б) 860 г., 907 г., 911 г., 941 г., 944 г.

- В) Пересвет, Дмитрий Иванович, Мамай, Дмитрий Боброк-Волынский.

- Г) Визгия, Коран, Танах, Трипитака

- Д) Рядович, смерд, закуп, прощеники

А	Б	В	Г	Д
4	1	5	6	2

Храмы	
А) Десятинная церковь	1. село Коломенское
Б) храм Иоковра на Нерли	2. Красная площадь в Москве
В) Георгиевский собор Юрьева монастыря	3. Московский Кремль
Г) Храм Иоковра на Рву	4. Киев
Д) Архангельский собор	5. Новгород
	6. Владимир

6.1. Соотнесите храмы и их местонахождение:

4. Задание на соотнесение двух рядов данных (5 баллов за полностью верный ответ, 1 балл за каждое верное соотнесение)

Блок 6 (максимально – 10 баллов)

- Ответ: *g.p.g.a*
- Д) Юрий Долгорукий
 - Г) Дмитрий Донской
 - В) Василий II
 - Б) Святослав Игоревич
 - А) Иван III

5.2. Расположите предметы в хронологической последовательности по времени их

Ответ: *g.b.a.g.d*

- Д) Призвание варягов
- Г) Создание Правды Ярослава
- В) Введение «уроков и погостов»
- Б) Свезд князей в Любече
- А) Принятие христианства в Древней Руси

5.1. Расположите события в хронологической последовательности (5 баллов за

5. Хронологические последовательности

Блок 5 (максимально - 10 баллов)

- Г) Парк Победы, Нагорный парк, Курортный парк, Комсомольский парк
- Д) Софья Палеолог, Сергей Радонежский, Василий III, Аристотель Флорентинский
- Б) Ягайло, Батый, Мамай, Ахмат
- В) Сканы, зернь, фреска, эмаль

4. По какому принципу образованы ряды? Что и почему является лишним? (2 балла за полностью верный ответ в вопросе, 1 балл, если указано только лишнее или дано только

Блок 4 (максимально - 10 баллов)

6.2. Установите соответствие между историческими деятелями и предметом годов-курса Пятигорска.

Исторический деятель	Предмет
а) А.П. Ермолов	А
б) Г.А. Эмануэль	Б
в) Джугеште и Джованни Бернардацци	В
г) П.С. Паллас	Г
д) Р.Р. Лейцнер	Д
1) Итальянские архитекторы, создатели здания Ресторации	1
2) Первый местный Кавказ	2
3) Путешественник-натуралист	3
4) Основатель первой в России ученической турбазы	4
5) Организатор экспедиции на вершину Эльбруса	5

Блок 7 (максимально – 10 баллов)

7. Определите пропущенные в тексте названия, слова, имена, даты, обозначенные порядковыми номерами. При необходимости при порядковых номерах даются пояснения о характере пропущенной вставки. Необходимые вставки впишите под соответствующими номерами в помещённую ниже таблицу. (1 балл за каждую вставку)

Московский князь (1 – имя и отчество) начал править в (2) году в возрасте 9 лет после смерти его отца – (3 – имя и прозвище). Странная эпидемия (4 – название болезни), известной как «чёрная смерть», бушевавшая в середине (5) века, затронула всю Европу и даже дошла до Северо-Восточных русских земель. В таких тяжёлых условиях молодому князю нужен был помощник, наставник и даже своего рода регент – им стал митрополит (6 – имя). Первостепенной задачей стало возвращение (7 – документ, подтверждающий право) на великое княжение, который смог забрать себе в Орде амбициозный князь (8 – имя и отчество), правивший в Нижнем Новгороде. Долгие дипломатические переговоры и даже (9 – термин, обозначающий войну между князьями) привели к возвращению великого княжения (1), а в знак окончания войны был заключён (10 – название брака) брак между (1) и дочерью (8) Евдокией.



Таблица для ответа:

Вставка	Номер в тексте
1359	
1389	
XIV	
Алексий	6
Берг	7
Дмитрий Иванович	1
Дмитрий Константинович	8
Ивана Калиты	9
Ивана Красного (Иван Красный)	10
Нов	
Междоусобица	
Династический	
Холера	
Чума	
Трагический	
Ярлык	

Блок 8 (максимум 10 баллов)

8. Перед Вами изображена знаменитая памятник среднейковой архитектуры. Заполните таблицу: во вторую колонку напишите название изображённого архитектурного памятника, в третью колонку напишите современное название государства, на территории которого этот памятник располагается.

(По 1 баллу за каждый правильный ответ. Всего за задание 10 баллов.)

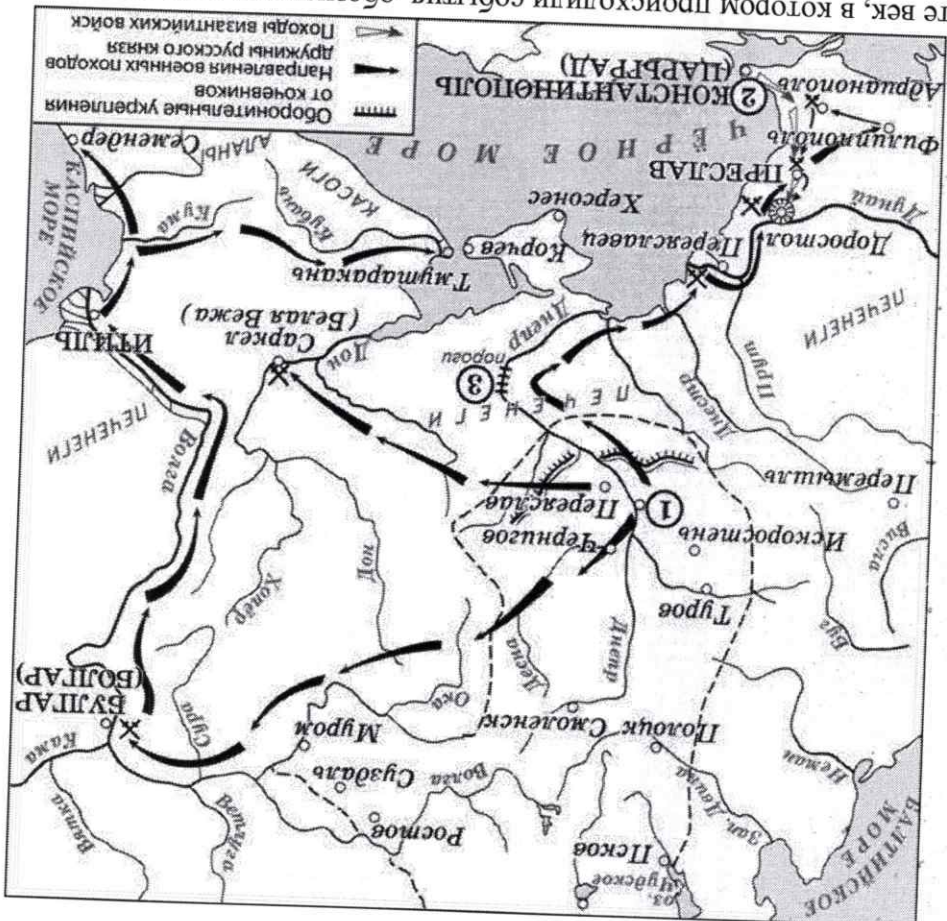
1	
3	
5	

ОТВЕТ:

№	Название	Страна, в которой он расположен
1	Колонный мост	Япония
2	Храмы	Япония
3	Храмы	Япония
4	Храмы	Япония
5	Храмы	Япония

Блок 9 (максимум – 10 баллов)

9. Внимательно рассмотрите карту и выполните предложенные задания (по 2 балла за каждый правильный ответ).



1. Укажите век, в котором происходили события, обозначенные на карте.

X в

2. Напишите название города, обозначенного на схеме цифрой 1.

Киев

3. Напишите имя князя, который осуществлял данные походы.

Великий князь Святослав

4. Напишите название государства, столица которого обозначена цифрой 2.

Византия

5. Чем можно объяснить такую активную политику представленного князя.

Борьба с Византией и Болгарией и присоединение своих земель и расширение территории

Блок 10 (максимум – 10 баллов)

10. Прочитайте текст и кратко ответьте на вопросы (по 2 балла за каждый правильный ответ)

«... Когда влекли Перуна по Ручью к Днепру, оплакивали его неверные, так как не приняли еще они святого крещения. И, притащив, кинули его в Днепр... Затем послал (князь) по всему городу сказать: «Если не придет кто завтра на реку — будь то богатый, или бедный, или нищий, или раб, — будет мне врагом».

1) Какое историческое событие описано в документе?
Крещение князя Ярославом Мудрым

2) В каком году оно произошло?
988 г.

3) Как называется этот документ?
Повесть временных лет

4) Как звали князя, который был инициатором этого события?
Ярослав

5) Какое значение имело это событие для Руси?
Присоединил князь Ярослав Великий

№ задания	Максимальное количество баллов	Баллы ученика
1	10	8
2	10	4
3	10	2
4	10	4
5	10	9
6	10	3
7	10	8
8	10	5
9	10	10
10	10	0
Итого	100	53