

Олимпиадная работа
школьного этапа всероссийской олимпиады школьников
по истории
обучающегося 7В класса
муниципального бюджетного общеобразовательного учреждения
средней общеобразовательной школы № 31 со спортивным уклоном
города Пятигорска Ставропольского края

шифр

07-07

Коренская Вероника Николаевна
Ф.И.О. участника

Педагог-наставник:
учитель истории
муниципального бюджетного
общеобразовательного учреждения
средней общеобразовательной школы
№31 со спортивным уклоном города
Пятигорска Ставропольского края
Баранова М.М.

1 октября 2020 года

Ставропольский край
Школьный этап всероссийской олимпиады школьников
2020/21 учебного года
История 7 класс
Время выполнения работы – 90 минут
Максимальное количество баллов 100

Блок 1. (максимум 10 баллов)

1. Задания с 1 вариантом ответа (за каждое задание по 1 б.)

А) Какое из перечисленных событий относится к XI веку?

- | | |
|----------------------------|---|
| 1) призвание варягов | <input checked="" type="radio"/> 3) восстание древлян |
| 2) создание Русской правды | 4) создание летописи «Повесть временных лет» |

Б) В период феодальной раздробленности боярскими республиками, в которых высшим органом власти являлось вече, были

- | | |
|----------------------|---|
| 1) Чернигов и Рязань | <input checked="" type="radio"/> 3) Москва и Владимир |
| 2) Киев и Вышгород | 4) Новгород и Псков |

В) Сражения русских дружин с отрядами шведских и немецких рыцарей произошли в

- | | |
|---|----------------------|
| 1) 1201 и 1219 годах | 3) 1223 и 1237 годах |
| <input checked="" type="radio"/> 2) 1240 и 1242 годах | 4) 1378 и 1380 годах |

Г) Величайший русский иконописец... Его творения полны удивительной нравственной чистоты, доброты, умиротворения. Его творчество стало образцом для многих поколений русских художников. Это был

- | | |
|---|------------------|
| <input checked="" type="radio"/> 1) Андрей Рублев | 3) Пьетро Солари |
| 2) Аристотель Фиоравантии | 4) Алевиз Новый |

Д) Прочтите отрывок из «Жития Сергия Радонежского» и укажите, о каком сражении идет речь.

«Началось сражение, и многие пали, но помог Бог великому победоносному Дмитрию, и побеждены были... татары, и полному разгрому подверглись...»

Великий князь Дмитрий, славную победу одержав, пришел к Сергию, благодарность принес за добрый совет, Бога славил и вклад большой в монастырь дал».

- | | |
|---|---|
| 1) о сражении на реке Воже | <input checked="" type="radio"/> 3) о битве на реке Калке |
| <input checked="" type="radio"/> 2) о Куликовской битве | 4) о Стоянии на реке Угре |

Е) Кому принадлежат слова?

...Англичане будут изгнаны из Франции, кроме тех, кто найдет здесь гибель... Бог пошлет французам победу над англичанами!

- | | |
|---|---------------------------|
| <input checked="" type="radio"/> 1) Жанне д'Арк | 3) Герцогу Бургундскому |
| 2) Черному принцу | 4) Вильгельму Завоевателю |

Ж) Основателем ислама считается:

- | | |
|---|------------------|
| 1) халиф Харун ар-Рашид | 3) пророк Моисей |
| <input checked="" type="radio"/> 2) пророк Мухаммад | 4) Адам |

З) Какой исторической личности принадлежат слова?

«О, доблестные воины, потомки непобедимых предков! – вскричал он. – Забудьте все наши ссоры и обиды! Отправляйтесь в путь ко Святому Гробу Господню, вырвите священную землю из лап гнусных завоевателей».

Ответ: Папа Римский

И) Запишите термин, о котором идет речь.

Наследственное земельное владение, выдававшееся за военную службу.

Ответ: Феод

К) Запишите термин, о котором идет речь.

Живописное изображение, составленное из кусочков непрозрачного стекла или цветных камней.

Ответ: Мозаика

Блок 2 (максимум 10 баллов)

2. Задания с несколькими вариантами ответов (2 балла за полностью верный ответ, 1 балл за ответ с одной ошибкой)

А) Какие из представленных ниже государств располагались в долине рек Тигр и Евфрат?

- | | |
|--------------|--------------|
| 1) Шумер | 4) Вавилония |
| 2) Македония | 5) Урарту |
| 3) Дакия | 6) Ассирия |

1	4	6
---	---	---

2

Б) Какие исторические личности были связаны с эпохой Великих географических открытий?

- | | |
|---------------------|--------------------|
| 1) Данте Алигьери | 4) Хлодвиг |
| 2) Васко да Гама | 5) Гутенберг |
| 3) Христофор Колумб | 6) Фернан Магеллан |

2	3	6
---	---	---

2

В) Какие географические пункты из перечисленных, составляли торговый путь «из варяг в греки»?

- | | |
|------------------|------------------|
| 1) река Днепр | 4) озеро Ильмень |
| 2) река Днестр | 5) река Волга |
| 3) озеро Селигер | 6) река Ловать |

1	5	6
---	---	---

2

Г) Укажите представителей духовно-рыцарских орденов, созданных во время Крестовых походов.

- | | |
|---------------|-----------------|
| 1) альбигойцы | 4) госпитальеры |
| 2) сельджуки | 5) герольды |
| 3) тамплиеры | 6) тевтоны |

3	4	6
---	---	---

2

Д) Какие из перечисленных событий относятся к периоду правления Ивана III?

- | | |
|---------------------------|-------------------------------------|
| 1) Стояние на Угре | 4) Куликовская битва |
| 2) введение патриаршества | 5) присоединение Твери |
| 3) принятие Судебника | 6) создание «Повести временных лет» |

3	5	6
---	---	---

2

Блок 3 (максимально - 10 баллов)

3. Что с исторической точки зрения объединяет перечисленные в ряду элементы? Дайте максимально точный ответ. (2 балла за полностью верный ответ)

А) Порох, компас, фарфор, шелк

Эти элементы были завезены в Европу из Китая

Б) 860 г., 907 г., 911 г., 941 г., 944 г.

В) Пересвет, Дмитрий Иванович, Мамай, Дмитрий Боброк-Волынский.

Татаро-монгольское иго.

Г) Библия, Коран, Танах, Трипитака

Святы великих религий

Д) Рядович, смерд, закуп, прощеник

6

Блок 4 (максимально - 10 баллов)

4. По какому принципу образованы ряды? Что и почему является лишним? (2 балла за полностью верный ответ в вопросе, 1 балл, если указано только понятие или дано только обоснование)

А) Кафтан, береста, тулуп, косоворотка

Береста

Б) Ягайло, Батый, Мамай, Ахмат

Ахмат

В) Скань, зернь, фреска, эмаль

Эмаль

Г) Парк Победы, Нагорный парк, Курортный парк, Комсомольский парк

Курортный парк

Д) Софья Палеолог, Сергей Радонежский, Василий III, Аристотель Фиораванти

Аристотель Фиораванти

Блок 5 (максимально - 10 баллов)

5. Хронологические последовательности

5.1. Расположите события в хронологической последовательности (5 баллов за полностью верный ответ):

А) Принятие христианства в Древней Руси

Б) Съезд князей в Любече

В) Введение «уроков и погостов»

Г) Создание Правды Ярослава

Д) Призвание варягов

Ответ: Д, Б, А, В, Г

5.2. Расположите правителей в хронологической последовательности по времени их правления (5 баллов за полностью верный ответ)

А) Иван III

Б) Святослав Игоревич

В) Василий II

Г) Дмитрий Донской

Д) Юрий Долгорукий

Ответ: Б, Д, Г, А, В

Блок 6 (максимально - 10 баллов)

4. Задание на соотнесение двух рядов данных (5 баллов за полностью верный ответ, 1 балл за каждое верное соотнесение)

6.1. Соотнесите храмы и их местонахождение:






Храмы	Местонахождение
А) Десятинная церковь	1. село Коломенское
Б) храм Покрова на Нерли	2. Красная площадь в Москве
В) Георгиевский собор Юрьева монастыря	3. Московский Кремль
Г) Храм Покрова на Рву	4. Киев
Д) Архангельский собор	5. Новгород
	6. Владимир

А	Б	В	Г	Д
4				

Блок 8 (максимум 10 баллов)

8. Перед Вами изображения знаменитых памятников средневековой архитектуры. Заполните таблицу: во вторую колонку таблицы запишите название изображённого архитектурного памятника, в третью колонку запишите современное название государства, на территории которого этот памятник располагается.

(По 1 баллу за каждый правильный ответ. Всего за задание 10 баллов.)

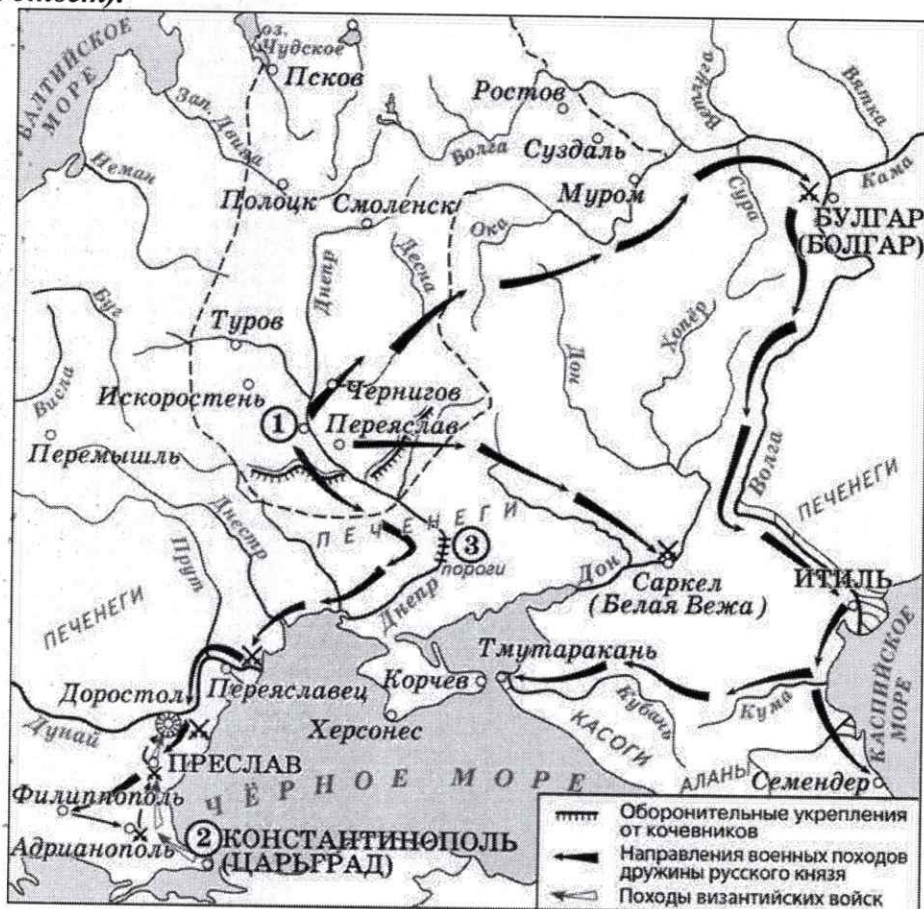
<p>1</p> 	<p>2</p> 
<p>3</p> 	<p>4</p> 
<p>5</p> 	

Ответ:

№ памятника	Название	Страна, в которой он расположен
1	Тауэрский мост	Великобритания 2
2		Калмыкия
3	Собор Возмездия Блаженною	Россия 2
4	Собор Святой Софии	Турция 2
5	Собор Парижской Богоматери	Франция 2

Блок 9 (максимум – 10 баллов)

9. Внимательно рассмотрите карту и выполните предложенные задания (по 2 балла за каждый правильный ответ).



1. Укажите век, в котором происходили события, обозначенные на карте.

XIII

2. Напишите название города, обозначенного на схеме цифрой 1.

Киев

3. Напишите имя князя, который осуществлял данные походы.

4. Напишите название государства, столица которого обозначена цифрой 2.

5. Чем можно объяснить такую активную политику представленного князя.

Блок 10 (максимум – 10 баллов)

10. Прочитайте текст и кратко ответьте на вопросы (по 2 балла за каждый правильный ответ)

«... Когда влекли Перуна по Ручью к Днепру, оплакивали его неверные, так как не приняли еще они святого крещения. И, притащив, кинули его в Днепр... Затем послал (князь) по всему городу сказать: «Если не придет кто завтра на реку — будь то богатый, или бедный, или нищий, или раб, — будет мне врагом».

1) Какое историческое событие описано в документе?

Крещение Руси

2

2) В каком году оно произошло?

988

2

3) Как называется этот документ?

4) Как звали князя, который был инициатором этого события?

Владимир

5) Какое значение имело это событие для Руси?

Заключение союзов с западными государствами, и установление прочных связей с Византией

2

№ задания	1	2	3	4	5	6	7	8	9	10	итого
Максимальное количество баллов	10	10	10	10	10	10	10	10	10	10	100
Баллы ученика	7	8	6	2	10	6	2	8	2	8	57