

Олимпиадная работа  
школьного этапа всероссийской олимпиады школьников  
по истории  
обучающегося \_\_\_\_\_ класса  
муниципального бюджетного общеобразовательного учреждения  
средней общеобразовательной школы № 31 со спортивным уклоном  
города Пятигорска Ставропольского края

шифр

06-09

Михаил Миколайевич Угровица  
Ф.И.О. участника

Педагог-наставник:  
учитель истории  
муниципального бюджетного  
общеобразовательного учреждения  
средней общеобразовательной школы  
№31 со спортивным уклоном города  
Пятигорска Ставропольского края  
Марина Михайловна Баранова

1 октября 2020 года

ВСЕРОССИЙСКАЯ ОЛИМПИАДА ШКОЛЬНИКОВ  
ПО ИСТОРИИ 2020-2021 уч. год  
ШКОЛЬНЫЙ ЭТАП (60 минут)

6 класс

*Уважаемый участник!*

При выполнении заданий Вам предстоит выполнить определённую работу, которую лучше организовать следующим образом:

- внимательно прочтите задание;
- если вы отвечаете на теоретический вопрос или решаете ситуационную задачу, обдумайте и сформулируйте конкретный ответ (ответ должен быть кратким) и его содержание впишите в отведённое поле, запись ведите чётко и разборчиво.

За каждый правильный ответ Вы можете получить определённое членами жюри количество баллов, но не выше указанной максимальной оценки.

Сумма набранных баллов за все решённые вопросы - итог Вашей работы. Максимальное количество баллов - 100. Обращаем Ваше внимание на то, что все ответы на вопросы следует писать на специальном листе ответов.

На выполнение всех заданий школьного этапа олимпиады отводится 1 астрономический час (60 минут).

Задания считаются выполненными, если вы вовремя сдали их членам жюри.

*Желаем успеха!*

### Задание 1

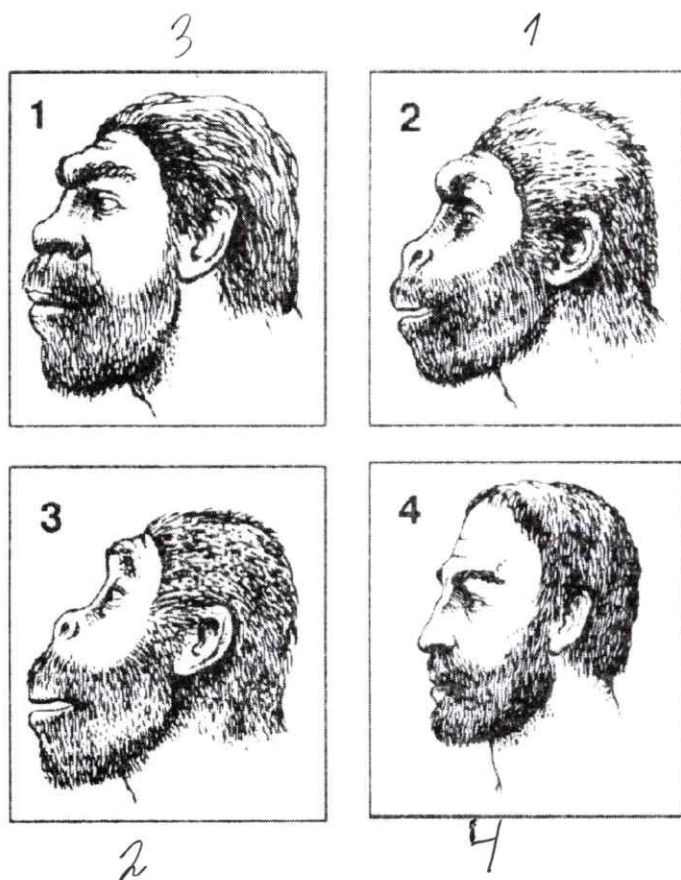
Верны ли следующие утверждения («да» – «нет»)? Ответы внесите в таблицу.

- 1.1. Гробница императора Цинь Шихуанди находится на территории современного Египта. *нет*
- 1.2. Эпоха воюющих царств в Китае была хронологически раньше падения Западной Римской империи. *да*
- 1.3. Пирей – основной порт Древнего Рима. *нет*
- 1.4. Октавиан Август был приёмным сыном Юлия Цезаря. *нет*
- 1.5. Современный Лондон ведёт свою историю от крепости Лондиниум, построенной при римлянах. *да*
- 1.6. Во времена Древнего Египта существовал канал между Красным и Средиземным морями. *да*
- 1.7. Клеопатра относилась к династии Птолемеев. *нет*
- 1.8. Греческий бог Арес покровительствовал войне и военным действиям, и тем самым соответствует римскому богу Марсу. *да*
- 1.9. 476 г.- дата окончания истории Древнего мира *да*
- 1.10. Карфаген основан финикийцами *нет*

По 1 баллу за каждый верный ответ.  
Максимум за задание – 10 баллов.

### Задание 2.

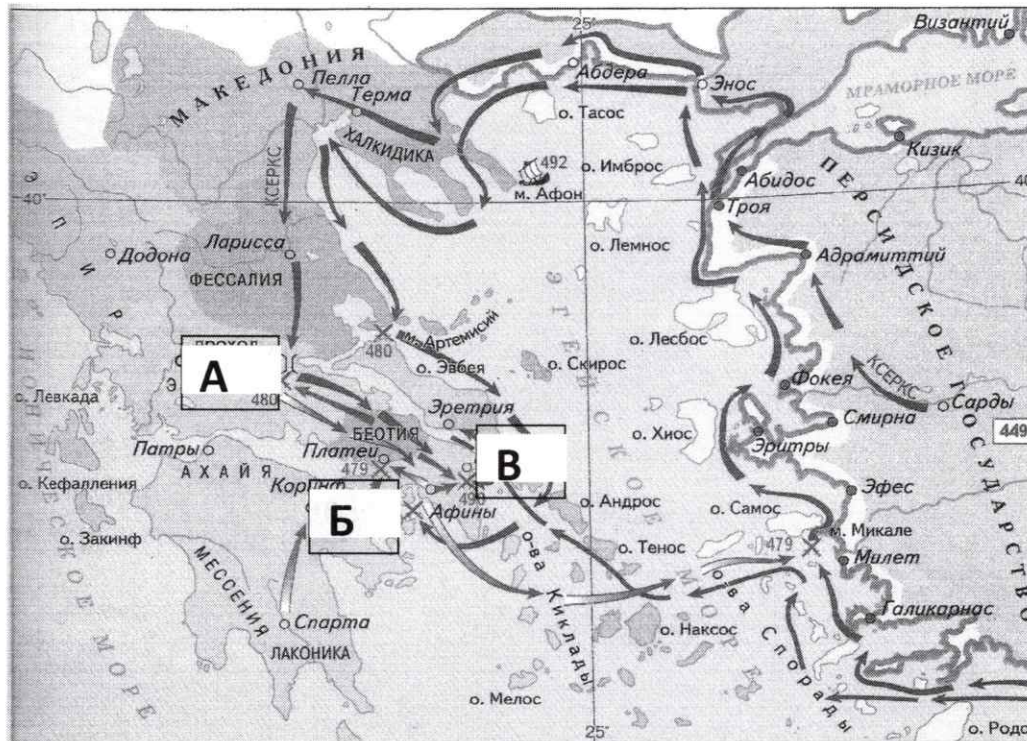
Расположите в правильной последовательности изображения древних людей. По 2 балла за каждый верный ответ. Максимум за задание – 8 баллов.



### Задание № 3.

Соотнесите фрагменты описаний знаменитых сражений одного из знаменитых вооруженных конфликтов античности и места этих сражений, отмеченные на карте буквами. Назовите эти сражения и сам вооруженный конфликт. Свой ответ оформите в виде таблицы.

Максимум за задание – 14 баллов.



1. Битва при ... длилась долго. В центре боевой линии, где стояли сами персы и саки, одолевали варвары. Здесь победители прорвали ряды афинян... Однако на обоих крыльях одерживали верх афиняне и платейцы. После победы афиняне не стали преследовать обратившихся в бегство врагов, но, соединив оба крыла, сражались с врагами, прорвавшими центр. И здесь также победили афиняне. Затем они начали преследовать... бегущих персов, пока не достигли моря. Здесь они старались напасть на корабли и поджечь их. *Мисифорок*

2. Отряд же этот во главе с Леонидом спартанцы выслали вперед для того, чтобы остальные союзники видели это и также выступили в поход... Наконец, полчища Ксеркса стали подходить. Эллыны же во главе с Леонидом, идя на смертный бой, продвигались теперь гораздо дальше в то место, где проход расширяется... Эллыны бросились врукопашную уже вне прохода, и в этой схватке варвары погибали тысячами. За рядами персов стояли начальники отрядов с бичами в руках и ударами бичей подгоняли воинов все вперед и вперед... В этой схватке пал также и Леонид после доблестного сопротивления и вместе с ним много других знатных спартанцев.

3. «...Вперед, сыны Эллады, устремитесь в бой!

Освободите алтари родных богов, *битва при Тимотеях*  
Детей и жен своих. Ведь бой идет за все!..»

Когда ж в теснине корабли персидские  
Столкнулись, весла сокрушая тяжестью,  
Друг друга клювами бодая медными,  
Тут ни защиты не было, ни помощи...»

**Задание № 4.** Дайте краткое обоснование ряда и вычеркните лишнее

~~Битва при Гавгамелах~~, осада Тира, битва при Иссе, битва при Платеях

*все остальное произошло с участием только греков*


3 Ра, ~~Янус~~, Осирис, Анупис *все остальные боги Египта*

3 Акведук, форум, зиккурат, амфитеатр *это здания из мезоуралья*


Максимум за задание –9 баллов.

**Задание № 5.** Соотнесите изображения подвигов Геракла, античного мифологического персонажа, с их названиями. Свой ответ оформите в виде таблицы .


1. Добыча шкуры Немейского льва.
2. Победа над Лернейской гидрой *В*
3. Поимка Керинейской лани. *А*
4. Поимка Эриманфского вепря. *Б*
5. Очистка Авгиевых конюшен.
6. Изгнание Стимфалийских птиц.
7. Поимка Критского быка.
8. Похищение кобылиц Диомеда.
9. Добыча пояса Ипполиты.
10. Доставка в Микены коров Гериона.
11. Добыча золотых яблок Гесперид.
12. Захват пса Кербера. *Г*



А.



Б.



В.



Г.

Максимум за задание – 12 баллов.

**Задание № 6.** Расположите в хронологической последовательности события поздней античности и раннего Средневековья

1. Взятие Рима готами. *2*
2. Битва при Пуатье между франками и арабами. *5*

3. Взятие Рима вандалами. *1*
4. Начало правления династии Каролингов. *4*
5. Основание королевства франков в Галлии. *3*

Максимум за задание – 5 баллов.

**Задание № 7.** Решите хронологическую задачу.

Считается, что первую пирамиду зодчий Имхотеп начал строить в 2750 г. до н.э. Последние пирамиды построены в 1700 г. до н. э. Сколько лет прошло между постройкой первой и последней пирамиды? Сколько лет назад были построены последние пирамиды? *4450*

Максимум за задание – 5 баллов.

**Задание № 8.** Соотнесите имя правителя с историческим фактом.

А) Александр Македонский	1. Организация библиотеки глиняных книг	<i>а) 7</i> <i>б) 8</i> <i>в) 8</i> <i>г) 6</i> <i>д) 5</i> <i>е) 2</i> <i>ж) 6</i> <i>з) 3</i>
Б) Ашшурбанапал	2. Создание древнейших законов	
В) Константин	3. Строительство самой длинной стены	
Г) Октавиан Август	4. Установление империи	
Д) Соломон	5. Строительство храма бога Яхве в Иерусалиме	
Е) Хаммурапи	6. Захват единоличной власти в Риме	
Ж) Юлий Цезарь	7. Военный поход в Индию	
З) Цинь Шихуан	8. Разрешение христианам открыто молиться	

Максимум за задание – 16 баллов.

**Задание №9.** Перечислите героев ВОВ именами которых названы улицы г.Пятигорска. Расскажите об одном из них.

**За полный правильный ответ – 10 баллов**

**Задание №10.** Какие вы знаете памятники культуры в городе (*указать не меньше пяти*), которые рассказывают о доблести и подвигах жителей и защитников Пятигорска в годы ВОВ? *Улицы. Лопцовой.*

**За полный правильный ответ – 11 баллов**

№ Задания	1.	2.	3.	4.	5.	6.	7.	8.	9.	10.	Итого 100
баллы	10	8	14	9	12	5	5	16	10	11	100
Баллы ученика											

**Задание 1**

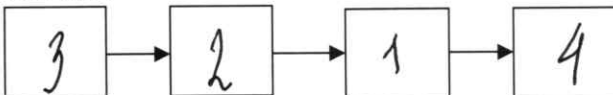
1.1	1.2.	1.3	1.4	1.5	1.6	1.7	1.8	1.9	1.10
нет	да	нет	нет	да	да	нет	да	да	нет

За полный правильный ответ – 10 баллов  
За одно правильное соотнесение – 1балл

7

**Задание 2**

Ответ:



8

За каждый верно указанный пункт – 2 балла. Итого 8 баллов.

**Задание 3**

Описание сражений	Буква	Название сражения
1	в	
2	а	
3	б	

Название конфликта: \_\_\_\_\_

Максимум за задание – 14 баллов.

3

**Задание 4**

---



---



---



---



---



---

Максимум за задание – 9 баллов.

По 3 баллов за каждый верный ответ в ряду

6

**Задание 5**

Подвиг (цифра)	Буква изображения
3	А




4	Б
2	В
12	Г

Максимум за задание – 12 баллов.  
По 3 балла за каждый верный ответ

12

**Задание 6**

Ответ:



Максимум за задание – 5 баллов.

5

**Задание 7**

---



---



---



---

Максимум за задание – 5 баллов.

0

**Задание 8**

А	Б	В	Г	Д	Е	Ж	З
2	1	8	6	5	2	4	3

Максимум за задание – 16 баллов.

16

**Задание 9**

---



---



---



---



---



---



---



---



---



---



---

