

Олимпиадная работа
школьного этапа всероссийской олимпиады школьников
по истории
обучающегося _____ класса
муниципального бюджетного общеобразовательного учреждения
средней общеобразовательной школы № 31 со спортивным уклоном
города Пятигорска Ставропольского края

шифр

07-18

Шульга

Ф.И.О. участника

Педагог-наставник:
учитель истории
муниципального бюджетного
общеобразовательного учреждения
средней общеобразовательной школы
№31 со спортивным уклоном города
Пятигорска Ставропольского края

1 октября 2020 года

Ставропольский край
Школьный этап всероссийской олимпиады школьников
2020/21 учебного года

История 7 класс

Время выполнения работы – 90 минут
Максимальное количество баллов 100

Блок 1. (максимум 10 баллов)

1. Задания с 1 вариантом ответа (за каждое задание по 1 б.)

А) Какое из перечисленных событий относится к XI веку?

- 1) призвание варягов
2) создание Русской правды
3) восстание дrevлян
4) создание летописи «Повесть временных лет»

Б) В период феодальной раздробленности боярскими республиками, в которых высшим органом власти являлось вече, были

- 1) Чернигов и Рязань
2) Киев и Вышгород
3) Москва и Владимир
4) Новгород и Псков

В) Сражения русских дружин с отрядами шведских и немецких рыцарей произошли в

- 1) 1201 и 1219 годах
2) 1240 и 1242 годах
3) 1223 и 1237 годах
4) 1378 и 1380 годах

Г) Величайший русский иконописец... Его творения полны удивительной нравственной чистоты, доброты, умиротворения. Его творчество стало образцом для многих поколений русских художников. Это был

- 1) Андрей Рублев
2) Аристотель Фиоравантииини
3) Пьетро Солари
4) Алевиз Новый

Д) Прочтите отрывок из «Жития Сергия Радонежского» и укажите, о каком сражении идет речь.

«Началось сражение, и многие пали, но помог Бог великому победоносному Дмитрию, и побеждены были... татары, и полному разгрому подверглись...»

Великий князь Дмитрий, славную победу одержав, пришел к Сергию, благодарность принес за добрый совет, Бога славил и вклад большой в монастырь дал».

- 1) о сражении на реке Воже
2) о Куликовской битве
3) о битве на реке Калке
4) о Стоянии на реке Угре

Е) Кому принадлежат слова?

...Англичане будут изгнаны из Франции, кроме тех, кто найдет здесь гибель... Бог пошлет французам победу над англичанами!

- 1) Жанне д'Арк
2) Черному принцу
3) Герцогу Бургундскому
4) Вильгельму Завоевателю

Ж) Основателем ислама считается:

- 1) халиф Харун ар-Рашид
2) пророк Мухаммад
3) пророк Моисей
4) Адам

З) Какой исторической личности принадлежат слова?

«О, доблестные воины, потомки непобедимых предков! – вскричал он. – Забудьте все наши ссоры и обиды! Отправляйтесь в путь ко Святому Гробу Господню, вырвите священную землю из лап гнусных завоевателей».

Ответ: Дмитрий Донской

И) Запишите термин, о котором идет речь.

Наследственное земельное владение, выдававшееся за военную службу.

Ответ: феод

К) Запишите термин, о котором идет речь.

Живописное изображение, составленное из кусочков непрозрачного стекла или цветных камней.

Ответ: Мозаика

Блок 2 (максимум 10 баллов)

2. Задания с несколькими вариантами ответов (2 балла за полностью верный ответ, 1 балл за ответ с одной ошибкой)

А) Какие из представленных ниже государств располагались в долине рек Тигр и Евфрат?

- | | |
|--------------|--------------|
| 1) Шумер | 4) Вавилония |
| 2) Македония | 5) Урарту |
| 3) Дакия | 6) Ассирия |

5	3	1
---	---	---

Б) Какие исторические личности были связаны с эпохой Великих географических открытий?

- | | |
|---------------------|--------------------|
| 1) Данте Алигьери | 4) Хлодвиг |
| 2) Васко да Гама | 5) Гутенберг |
| 3) Христофор Колумб | 6) Фернан Магеллан |

3	2	6
---	---	---

В) Какие географические пункты из перечисленных, составляли торговый путь «из варяг в греки»?

- | | |
|------------------|------------------|
| 1) река Днепр | 4) озеро Ильмень |
| 2) река Днестр | 5) река Волга |
| 3) озеро Селигер | 6) река Ловать |

1	5	6
---	---	---

Г) Укажите представителей духовно-рыцарских орденов, созданных во время Крестовых походов.

- | | |
|---------------|-----------------|
| 1) альбигойцы | 4) госпитальеры |
| 2) сельджуки | 5) герольды |
| 3) тамплиеры | 6) тевтоны |

3	4	6
---	---	---

Д) Какие из перечисленных событий относятся к периоду правления Ивана III?

- | | |
|---------------------------|-------------------------------------|
| 1) Стояние на Угре | 4) Куликовская битва |
| 2) введение патриаршества | 5) присоединение Твери |
| 3) принятие Судебника | 6) создание «Повести временных лет» |

3	X	5	1
---	---	---	---

Блок 3 (максимально - 10 баллов)

3. Что с исторической точки зрения объединяет перечисленные в ряду элементы? Дайте максимально точный ответ. (2 балла за полностью верный ответ)

А) Порох, компас, фарфор, шелк

изобретения в современное время.

Б) 860 г., 907 г., 911 г., 941 г., 944 г.

В) Пересвет, Дмитрий Иванович, Мамай, Дмитрий Боброк-Волынский.

Исторические битвы на Кулике. Участники битвы на Куликовской битве.

Г) Библия, Коран, Танах, Трипитака

Священные писания.

Д) Рядович, смерд, закуп, прощенник

Разряды низших по мере обществу крестьян.

Блок 4 (максимально - 10 баллов)

4. По какому принципу образованы ряды? Что и почему является лишним? (2 балла за полностью верный ответ в вопросе, 1 балл, если указано только понятие или дано только обоснование)

А) Кафтан, береста, тулуп, косоворотка

Косоворотка - это не верхняя одежда.

Б) Ягайло, Батый, Мамай, Ахмат

Ягайло - не один Золотой Орды (Менгли-Татар).

В) Скань, зернь, фреска, эмаль

Фреска

Г) Парк Победы, Нагорный парк, Курортный парк, Комсомольский парк

Курортный парк - место развлечения и отдыха.

Д) Софья Палеолог, Сергей Радонежский, Василий III, Аристотель Фиораванти

Аристотель Фиораванти - не правитель, а открыватель.

Блок 5 (максимально - 10 баллов)

5. Хронологические последовательности

5.1. Расположите события в хронологической последовательности (5 баллов за полностью верный ответ):

А) Принятие христианства в Древней Руси

Б) Съезд князей в Любече

В) Введение «уроков и погостов»

Г) Создание Правды Ярослава

Д) Призвание варягов

Ответ: д, а, г, в, а, з, б 5

5.2. Расположите правителей в хронологической последовательности по времени их правления (5 баллов за полностью верный ответ)

А) Иван III

Б) Святослав Игоревич

В) Василий II

Г) Дмитрий Донской

Д) Юрий Долгорукий

Ответ: д, г, з, в, а. 5

Блок 6 (максимально - 10 баллов)

4. Задание на соотнесение двух рядов данных (5 баллов за полностью верный ответ, 1 балл за каждое верное соотнесение)

6.1. Соотнесите храмы и их местонахождение:

Храмы	Местонахождение
А) Десятинная церковь	1. село Коломенское
Б) храм Покрова на Нерли	2. Красная площадь в Москве
В) Георгиевский собор Юрьева монастыря	3. Московский Кремль
Г) Храм Покрова на Рву	4. Киев
Д) Архангельский собор	5. Новгород
	6. Владимир

А	Б	В	Г	Д
6	5	4	1	2

6.2. Установите соответствие между историческими деятелями и развитием города-курорта Пятигорска.

Исторический деятель	Его роль в развитии курорта Пятигорск
а) А.П. Ермолов	1) Итальянские архитекторы, создатели здания Ресторации
б) Г.А. Эммануэль	2) Первый наместник Кавказа
в) Джузеппе и Джованни Бернардацци	3) Путешественник-натуралист
г) П.С.Паллас	4) Основатель первой в России ученической турбазы
д) Р.Р.Лейценгер	5) Организатор экспедиции на вершину Эльбруса

А	Б	В	Г	Д
2	4	1	3	5

Блок 7 (максимально – 10 баллов)

7. Определите пропущенные в тексте названия, слова, имена, даты, обозначенные порядковыми номерами. При необходимости при порядковых номерах даются пояснения о характере требуемой вставки. Необходимые вставки впишите под соответствующими номерами в помещённую ниже таблицу. (1 балл за каждую вставку)

Московский князь (1 – имя и отчество) начал править в (2) году в возрасте 9 лет после смерти его отца – (3 – имя и прозвище). Страшная эпидемия (4 – название болезни), известной как «чёрная смерть», бушевавшая в середине (5) века, затронула всю Европу и даже дошла до Северо-Восточных русских земель. В таких тяжёлых условиях молодому князю нужен был помощник, наставник и даже своего рода регент – им стал митрополит (6 – имя). Первостепенной задачей стало возвращение (7 – документ, подтверждающий право) на великое княжение, который смог забрать себе в Орде амбициозный князь (8 – имя и отчество), правивший в Нижнем Новгороде. Долгие дипломатические переговоры и даже (9 – термин, обозначающий войну между князьями) привели к возвращению великого княжения (1), а в знак окончания войны был заключен (10 – название брака) брак между (1) и дочерью (8) Евдокией.






Таблица для ответа:

Вставка	Номер в тексте
1359	2 1
1389	
XIV	5 1
Алексий	6 1
Верьь	
Дмитрий Иванович	X
Дмитрий Константинович	8, 10 —
Ивана Калиты	3 —
Ивана Красного (Иван Красный)	1, 9(X) —
Иов	5
Междоусобица	9 1
Династический	10 1
Холера	
Чума	4 1
Гражданский	
Ярлык	8, 7 1

Блок 8 (максимум 10 баллов)

8. Перед Вами изображения знаменитых памятников средневековой архитектуры. Заполните таблицу: во вторую колонку таблицы запишите название изображённого архитектурного памятника, в третью колонку запишите современное название государства, на территории которого этот памятник располагается.

(По 1 баллу за каждый правильный ответ. Всего за задание 10 баллов.)

<p>1</p> 	<p>2</p> 
<p>3</p> 	<p>4</p> 
<p>5</p> 	

Ответ:

№ памятника	Название	Страна, в которой он расположен
1	Лондонский башня ^{Трафалгар}	Лондон, Англия, Великобритания
2	Потала-Палас	Тибет
3	Собор Василия Блаженного	Москва, Россия
4	Тадж-Махал	Индия
5		

Блок 9 (максимум – 10 баллов)

9. Внимательно рассмотрите карту и выполните предложенные задания (по 2 балла за каждый правильный ответ).



1. Укажите век, в котором происходили события, обозначенные на карте.

IX в.

2. Напишите название города, обозначенного на схеме цифрой 1.

Киев.

3. Напишите имя князя, который осуществлял данные походы.

Олег Великий.

4. Напишите название государства, столица которого обозначена цифрой 2.

Византийская империя.

5. Чем можно объяснить такую активную политику представленного князя.

Олег Великий хотел усилить, и расширить Русь.

Блок 10 (максимум – 10 баллов)

10. Прочитайте текст и кратко ответьте на вопросы (по 2 балла за каждый правильный ответ)

«... Когда влекли Перуна по Ручью к Днепру, оплакивали его неверные, так как не приняли еще они святого крещения. И, притащив, кинули его в Днепр... Затем послал (князь) по всему городу сказать: «Если не придет кто завтра на реку — будь то богатый, или бедный, или нищий, или раб, — будет мне врагом».

1) Какое историческое событие описано в документе?

Крещение Руси.

2) В каком году оно произошло?

в 988 г.

3) Как называется этот документ?

?

4) Как звали князя, который был инициатором этого события?

Владимир Крестителем.

5) Какое значение имело это событие для Руси?

После крещения Руси, Русь приняла начало строить православные храмы, и православие в России есть до сих пор, и это помогло объединить народ, прекратить вражду.

№ задания	1	2	3	4	5	6	7	8	9	10	итого
Максимальное количество баллов	10	10	10	10	10	10	10	10	10	10	100
Баллы ученика	9	4	6	5	10	3	7	4	4	8	59