

1 октября 2020 года

Педagog-наставник:
Учитель истории
муниципального бюджетного
образовательного учреждения
средней общеобразовательной школы
№31 со спортивным уклоном города
Пятигорска Ставропольского края
Борисова Марина Викторовна

Ф.И.О. участника

Шумков Александр Александрович

шифр

02-19

Олимпиадная работа
школьного этапа всероссийской олимпиады школьников
по истории
обучающегося _____ класса
муниципального бюджетного образовательного учреждения
средней общеобразовательной школы №31 со спортивным уклоном
города Пятигорска Ставропольского края

Ставропольский край
Школьный этап всероссийской олимпиады школьников
2020/21 учебного года
История 7 класс
Время выполнения работы – 90 минут
Максимальное количество баллов 100

Блок 1. (максимум 10 баллов)

1. Задания с 1 вариантом ответа (за каждое задание по 1 б.)

А) Какое из перечисленных событий относится к XI веку?

- 1) призывание варягов
- 2) создание Русской правды
- 3) восстание древлян
- 4) создание летописи «Повесть временных лет»

Б) В период феодальной раздробленности боярскими республиками, в которых высшим

органом власти являлось вече, были

- 1) Чернигов и Рязань
- 2) Киев и Вышгород
- 3) Москва и Владимир
- 4) Новгород и Псков

В) Сражения русских дружин с отрядами шведских и немецких рыцарей произошли в

- 1) 1201 и 1219 годах
- 2) 1223 и 1237 годах
- 3) 1240 и 1242 годах
- 4) 1378 и 1380 годах

Г) Величайший русский иконописец... Его творения полны удивительной нравственной

чистоты, доброты, умиротворения. Его творчество стало образцом для многих поколений

русских художников. Это был

- 1) Андрей Рублев
- 2) Аристотель Флоравантийский
- 3) Пьетро Солари
- 4) Алвиз Новый

Д) Прочтите отрывок из «Жития Сергия Радонежского» и укажите, о каком сражении идет

речь.

«Началось сражение, и многие пали, но помор Бог великому победоносному Дмитрию, и

побеждены были... татары, и полному разгрому подверглись...

Великий князь Дмитрий, славную победу одержав, пришел к Сергию, благодарность принес

за добрый совет, Бога славил и вклад большой в монастырь дал».

- 1) о сражении на реке Воже
- 2) о Куликовской битве
- 3) о битве на реке Калке
- 4) о Стоянии на реке Угре

Е) Кому принадлежит слово?

«...Англичане будут изгнаны из Франции, кроме тех, кто найдет здесь гибель... Бог пошлет

французам победу над англичанами!

- 1) Жанне д'Арк
- 2) Черному принцу
- 3) Герцогу Бургундскому
- 4) Вильгельму Завоевателю

Ж) Основателем ислама считается:

- 1) халиф Харун ар-Рашид
- 2) пророк Мухаммад
- 3) пророк Моисей
- 4) Адам

З) Какой исторической личности принадлежит слово?

«О, доблестные воины, потяните непобедимых преюков! – вскричал он. – Забудьте все наши

ссоры и обиды! Отправляйтесь в путь ко Святому Гробу Господню, вырвите священный

землю из лап гнусных завоевателей».

И) Запишите термин, о котором идет речь.

Наследственное земельное владение, выдававшееся за военную службу.

К) Запишите термин, о котором идет речь.

Живописное изображение, составленное из кусочков непрозрачного стекла или цветных

камней.

Ответ: Мозаика

2. Задания с несколькими вариантами ответов (2 балла за полностью верный ответ, 1 балл за ответ с одной ошибкой)

Блок 2 (максимум 10 баллов)

А) Какие из представляемых ниже государств располагались в долине рек Тигр и Евфрат?

- | | |
|---|-----------|
| 1 | Шумер |
| 2 | Македония |
| 3 | Лакция |

- 4) Вавилония
5) Урарту
6) Ассирия

Б) Какие исторические личности были связаны с эпохой Великих географических

открытий?

- | | |
|---|------------------|
| 1 | Данте Алигьери |
| 2 | Васко да Гама |
| 3 | Христофор Колумб |

- 4) Хлодвиг
5) Гутенберг
6) Фернан Магеллан

В) Какие географические пункты из перечисленных, составляли торговый путь «из варяг в

греки»?

- | | |
|---|---------------|
| 1 | река Днепр |
| 2 | река Днестр |
| 3 | озеро Селигер |

- 4) озеро Ильмень
5) река Волга
6) река Ловат

Г) Укажите представителей духовно-рыцарских орденов, созданных во время Крестовых

походов.

- | | |
|---|------------|
| 1 | альбигойцы |
| 2 | сельджуки |
| 3 | тамплиеры |

- 4) госпитальеры
5) герольды
6) тевтоны

Д) Какие из перечисленных событий относятся к периоду правления Ивана III?

- | | |
|---|------------------------|
| 1 | Стояние на Угре |
| 2 | введение патриаршества |
| 3 | принятие Судебника |

- 4) Куликовская битва
5) присоединение Твери
6) создание «Ловести временных лет»

Блок 3 (максимум - 10 баллов)

3. Что с исторической точки зрения объединяет перечисленные в ряду элементы? Дайте максимально точный ответ. (2 балла за полностью верный ответ)

А) Порох, компас, фарфор, шелк

Все это изобретено в Китае

Б) 860 г., 907 г., 911 г., 941 г., 944 г.

В) Пересвет, Дмитрий Иванович, Мамай, Дмитрий Боброк-Волынский.

Участники Куликовской битвы (Мамай и Дмитрий Боброк-Волынский)

Г) Библия, Коран, Танах, Трипитака

Священные писания

Д) Рядович, смерд, закуп, прощеник

Классы, боярство и смерды, и рядовичи, закупы, прощеники

Все в средневековье принадлежат к разным (разным) слоям

4. По какому принципу образованы ряды? Что и почему является лишним? (2 балла за полноту верный ответ в вопросе, 1 балл, если указано только понятие или дано только обоснование)

А) Кафтан, береста, тулуп, козоворотка

Б) Яйло, Батый, Мамай, Ахмат

В) Скать, зэрнь, фреска, эмаль

Блок 4 (максимально - 10 баллов)

5.1. Расположите события в хронологической последовательности (5 баллов за полноту верный ответ):

А) Принятие христианства в Древней Руси

Б) Съезд князей в Любече

В) Введение «уроков и погостов»

Г) Создание Правды Ярослава

Д) Призвание варягов

Ответ: АБГБВ

5.2. Расположите правителей в хронологической последовательности по времени их правления (5 баллов за полноту верный ответ)

А) Иван III

Б) Святослав Игоревич

В) Василий II

Г) Дмитрий Донской

Д) Юрий Долгорукий

Ответ: БГГВБ (БГГВБ) БАГВБ

Блок 6 (максимально - 10 баллов)

4. Задание на соответствие двух рядов данных (5 баллов за полноту верный ответ, 1 балл за каждое верное соответствие)

6.1. Соответствие храмы и их местонахождение:

Храмы	Местонахождение
А) Десятинная церковь	1. село Коломенское
Б) храм Покрова на Нерли	2. Красная площадь в Москве
В) Георгиевский собор Юрьева монастыря	3. Московский Кремль
Г) Храм Покрова на Рву	4. Киев
Д) Архангельский собор	5. Новгород
	6. Владимир

А	Б	В	Г	Д
1	2	3	4	5

Литтисгорска

6.2. Установите соответствие между историческими деятелями и предметом горда-курорт

Исторический деятель		Его роль в развитии курорта Литтисгорск	
а) А.П. Ермолов	1) Итальянские архитекторы, создатели здания Ресторации		
б) Г.А. Эмануэль	2) Первый наместник Кавказа		
в) Джузеппе и Джованни Бернардини	3) Путешественник-натуралист		
г) П.С. Лагас	4) Основатель первой в России ученической турбазы		
д) Р.Р. Лейцнер	5) Организатор экспедиции на вершину Эльбруса		

А	2			
Б	5			
В	1			
Г	3			
Д	4			

Блок 7 (максимально – 10 баллов)

7. Определите пропущенные в тексте названия, слова, имена, даты, обозначенные

порядковыми номерами. При необходимости при порядковых номерах даются пояснения о

характере требуемой вставки. Необходимо вставить недостающие номера под соответствующими

номерами в помещённую ниже таблицу. (1 балл за каждую вставку)

Московский князь (1 – имя и отчество) начал править в (2) году в возрасте 9 лет после смерти его отца – (3 – имя и прозвище). Страшная эпидемия (4 – название болезни), известной как «чёрная смерть», бушевавшая в середине (5) века, затронула всю Европу и даже дошла до Северо-Восточных русских земель. В таких тяжёлых условиях молодому князю нужен был помощник, наставник и даже своего рода регент – им стали митрополит (6 – имя). Первостепенной задачей стало возвращение (7 – документ, подтверждающий право) на великое княжение, который смог забрать себе в Орде амбициозный князь (8 – имя и отчество), правивший в Нижнем Новгороде. Долгие дипломатические переговоры и даже (9 – термин, обозначающий войну между князьями) привели к возвращению великого княжения (1), а в знак окончания войны был заключён (10 – название брака) брак между (1) и дочерью (8) Евдокией.






Таблица для ответа:

Вставка	Номер в тексте
1359	
1389	
XIV	2
Алексий	5
Беря	6
Дмитрий Иванович	8
Дмитрий Константинович	
Ивана Калиты	3
Ивана Красного (Иван Красный)	1
Иов	
Межусобица	9
Династический	10
Холера	
Чума	4
Грозный	
Ярлык	7

Блок 8 (максимум 10 баллов)

8. Перед Вами изображены знаменитых памятников средневековой архитектуры. Заполните таблицу: во вторую колонку запишите название изображённого архитектурного памятника, в третью колонку запишите современное название государства, на территории которого этот памятник располагается.

(По 1 баллу за каждый правильный ответ. Всего за задание 10 баллов.)

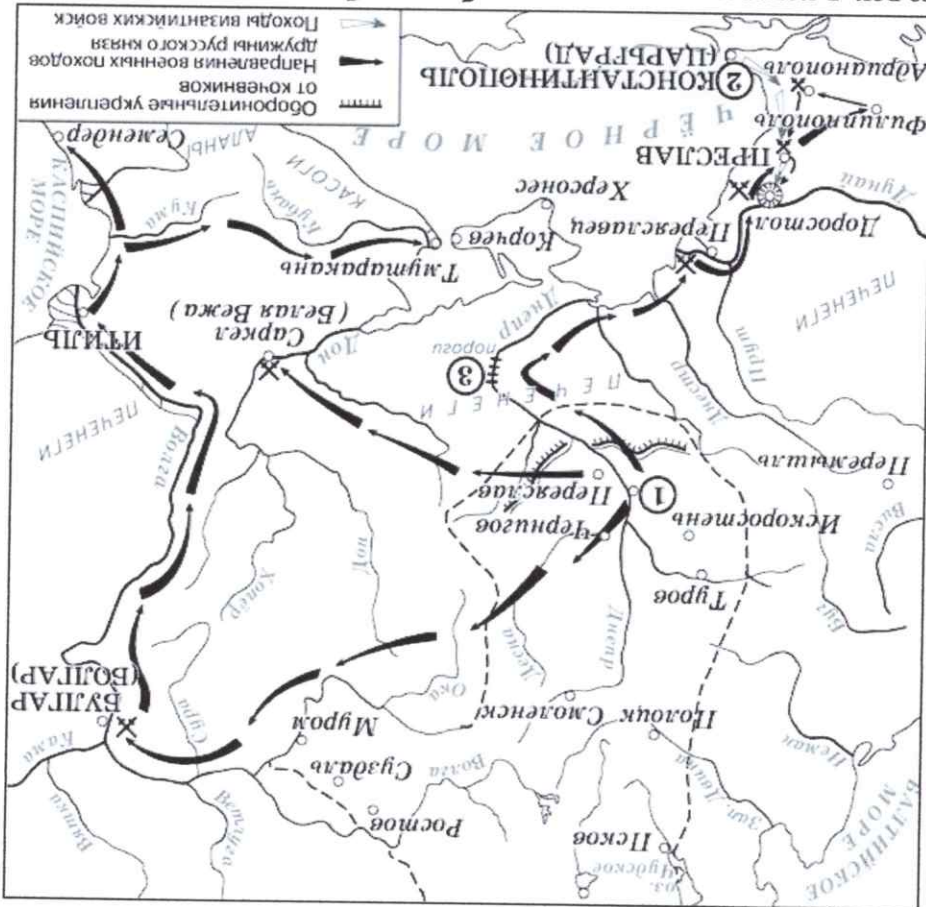
1		2	
3		4	
5			

Ответ:

№	ПАМЯТНИКА	Название	Страна, в которой он расположен
1		Музейский мост	Ватикан
2		Мост	Италия
3		Крест	Италия
4		Собор Святой Софии	Турция
5		Собор Норманской Богоматери	Франция

Блок 9 (максимум – 10 баллов)

9. Внимательно рассмотрите карту и выполните предложенные задания (по 2 балла за каждый правильный ответ).



1. Укажите век, в котором происходили события, обозначенные на карте.

XIII

2. Напишите название города, обозначенного на схеме цифрой 1.

Переяслав

3. Напишите имя князя, который осуществил данные походы.

4. Напишите название государства, столица которого обозначена цифрой 2.

Восточная Фракия (Империя)

5. Чем можно объяснить такую активную политику преставленного князя?

Смерть брата, и князь не мог себе позволить не вмешиваться в дела соседей. Это было связано с тем, что князь не хотел потерять контроль над своими владениями, и он с этим соглашался.

Блок 10 (максимум – 10 баллов)

10. Прочитайте текст и кратко ответьте на вопросы (по 2 балла за каждый правильный ответ)

«... Когда влекли Перуна по Ручью к Днепру, оплакивали его неверные, так как не приняли еще они святого крещения. И, притапив, кинули его в Днепр... Затем послал (князь) по всему городу сказать: «Если не придет кто завтра на реку — будь то бораты, или бедный, или нищий, или раб, — будет мне врагом».

1) Какое историческое событие описано в документе?

Крещение Руси

2) В каком году оно произошло?

6 988 г.

3) Как называется этот документ?

4) Как звали князя, который был инициатором этого события?

Владимир Свято Славиче

5) Какое значение имело это событие для Руси?

И Русь получила самую передовую в мире религию, и прекратилась варварская жизнь. И государство стало развиваться. И Русь получила письменность. И государство стало развиваться. И Русь получила письменность.

№ задания	Максимальное количество баллов	Баллы	Ученика
1	10	10	10
2	10	10	10
3	10	10	10
4	10	10	10
5	10	10	10
6	10	10	10
7	10	10	10
8	10	10	10
9	10	10	10
10	10	10	10
Итого	100	100	100